

• GENEL YETENEK - LİSANS •
Deneme - 4

1. Şairin Divan'ında geçen yüzlerce terim, divan şairinin tesadüfî bir yanının olmadığını ve ayakları yere sağlam basan bir geleneğin görkemini yansıtır.

Bu cümledeki altı çizili sözle anlatılmak istenen, aşağıdakilerden hangisidir?

- A) Köklü bir geçmişe sahip olmak
B) Etkileyici bir yönü olmak
C) Titiz ve dikkatli davranmak
D) Seçiciliğe önem vermek
E) Sanatsal yönden üstün olmak

2. Bir kelime deyip geçmeyiniz. Cemiyet hayatımızdaki birçok şikâyeti bu kelimenin yokluğuna bağlamak bile mümkündür. Düşünüyorum: Artık lügat kitaplarında be-yaz kâğıdın kefenlediği bu ölü kelimeyi nasıl diriltsek?

Bu parçadaki altı çizili bölümde, sözü edilen sözcüklerle ilgili olarak anlatılmak istenen, aşağıdakilerden hangisidir?

- A) Dilde yaşayan pek çok işlek sözcüğün yanı sıra ölen sözcükler de bulunmaktadır.
B) Söz konusu sözcük, bugün yalnız sözlüklerde yer alan, kullanım dışı kalmış bir sözcüktür.
C) Sözlükler, bugün artık gereksinim duyulmayan bir sözcüğü barındırmaktadır.
D) Sözcüğün sahip olduğu anlamlar, zaman içerisinde yok olabilir.
E) Bir sözcük, gerektiğinde yeniden işlerlik kazandırılmak üzere kullanımdan kaldırılır.

3. Kültürü, yerleşik düzen oluşturur. Orta Asya'da ---- yaşadıkları için Anadolu'ya gelen Türk boylarının kültürleri çok karıştı. Bir başka deyişle bu boyların ---- bir kültürleri yoktu. Böyle bir kültüre sahip olabilmek için uzun yıllar topraklarına bağlı kalmaları gerekecekti.

Bu parçadaki boşluğa aşağıdakilerden hangisi sırasıyla getirilmelidir?

- A) göçebe - kemikleşmiş
B) düzensiz - kültürlü
C) dağınık - faydalı
D) bağımsız - dengeli
E) sürekli avlanarak - fazla

MURAT YAYINLARI

MURAT YAYINLARI

4. I. ödüllü yazarımız Sait Faik Abasıyanık'ın
II. çeşitli etkinliklerle kutlanıyor
III. insanların yaşama sevincini birçok eserinde anlatan
IV. ödül aldığı gün olan 17 Haziran
V. her yıl "Sait Faik Öykü Ödülleri" olarak

Yukarıdaki sözler anlamlı ve kurallı bir cümle oluşturulacak biçimde sıralandığında, hangisi baştan dördüncü olur?

- A) I B) II C) III
D) IV E) V

5. (I) Yerleşik hayata geçilen dönem mimarisindeki en eski yapı malzemeleri taş, toprak ve ahşaptır. (II) Bu malzemelerden zamana ve mevsim koşullarına en dayanıklı olanı taştır. (III) Taş ile bir yapı meydana getirmenin zor ve en çok zaman alan aşaması, onu keski ve çekiçle biçimlendirmektir. (IV) Değişik renk, boyut ve şekillerdeki taşlar, taş yontucuları ile mimarlara sayısız olanaklar sağlar. (V) Ayrıca taştan yapılmış, geçmişten bugüne kalan yapılar ya da onların kalıntıları bize farklı kültürlerle ilgili bilgi vererek geçmişe ışık tutar.

Bu parçadaki numaralanmış cümlelerin hangisinde, yapılarda kullanılan taşın tarihçilere sağladığı kolaylıktan söz edilmektedir?

- A) I. B) II. C) III.
D) IV. E) V.

6. Bir çevirmenle sohbet ederken ona çevirinin ne olduğunu sordum. Bana şöyle bir cevap verdi: "Her çeviri çalışmam, temelde bir yorum denemesidir."

Bu cümlelerde sözü edilen çevirmenin, verdiği cevapla anlatmak istediği aşağıdakilerden hangisidir?

- A) Çeviri, içeriğiyle birden çok anlama gönderme yapar.
B) Deneyimli çevirmen, çevirinin niteliğini belirler.
C) Çeviri yapmak, geniş bir bilgi birikimi gerektirir.
D) Çevirinin başarısı, özgün metnin dilini iyi bilmekten doğar.
E) Çevirmen, yapıtı olduğu gibi değil, kendi anladığı biçimde aktarır.

7. İlk gösteriminden sonra büyüğü bir kutu olduğu düşünölen sinemanın o dönemdeki filmleri, bugünkü anlayışımıza göre film sayılamayacak kadar küçük parçaları; teknolojik yetersizliklerden dolayı filmlere ses eklene-miyordu.

Bu cümleden çıkarılabilecek kesin yargı aşağıdaki-lerden hangisidir?

- A) İlk sinema filmleri, izleyiciler tarafından beğenilme-miştir.
- B) Teknolojinin gelişmesiyle sinema tekniğı de geli-miştir.
- C) Sinemayla teknolojinin gelişmesi paralel olmuştur.
- D) İlk sinema gösterimi sessiz olduğu için tepkilere ne-den olmuştur.
- E) Günümüzde sessiz filmler ilgi görmemektedir.

9. Aşağıdaki cümlelerden hangisi, araç içinde veri-lenle ilişkilendirilemez?

- A) Gıda endüstrisinde, kalite ve ürün güvenliğinin sağ-lanmasına yönelik, bilimsel çalışmalarla oluşturulan ve uygulanması zorunlu olan kriterler saptanmış du-rumda. (Amaç)
- B) Yazarımız, benzer soruları kendine sormuş olmalı ki çocukluğundan bugüne değin yaşamında iz bira-kan kitaplardan söz eden bir yapıt ortaya koymuş. (Tahmin)
- C) Amerikalı yazar Edgar A. Poe; bu romanda, çapkın bir kişi olarak görmeye alıştığımız Smith'i vatansız, yersiz yurtsuz bir kimlikle karşımıza çıkarıyor. (De-ğerlendirme)
- D) Peyami Safa; *Yalnızız* romanında bireyler arasın-daki güvensizliği, yalnızlığı, kişiler arası ilişkilerdeki çarpıklıkları işleyerek psikolojik roman türünün ba-şarılı örneklerini verir. (Üslup)
- E) Atasözlerimizin kısa birer hikâye gibi olması, bu sözlerin yaşanan olaylardan sonra söylendiğini yani ortaya çıkışlarının belli bir olaya dayandığını düşün-dürmüştür bana. (Açıklama)

8. Fıkra türü Türk edebiyatında, Batı'da olduğu gibi, gaze-teciliğın gelişmesi ile ortaya çıkmıştır. (I) İlk resmî gaze-te olan Takvîm-i Vekayi, güncel haberlerin paylaşıldığı bir araç olmuştur. (II) Bu gazetede güncel olaylar nesnel bir şekilde okuyucuya sunulmuş, gerçek bir fıkra yazısı örneğı verilememiştir. (III) İlk özel gazetenin çıkması ile de fıkra türünün özelliklerini taşıyan yazılar yayımlan-maya başlamıştır. (IV) Bu dönemde yazı türleri arasında bir ayırım yapılmamış, güncel olaylarla ilgili fikir yazıları bir makale gibi okura sunulmuştur. (V) Gerçek anlam-da ilk fıkra yazıları, Servetifünun Dönemi'nde görülür.

Fıkra türünün anlatıldığı bu parçadaki numaralan-mış cümleler için aşağıdakilerden hangisi söylene-mez?

- A) I.de, bir yenilikten söz edilmiştir.
- B) II.de, özgünlüğe ulaşamadığı belirtilmiştir.
- C) III.de, okur kitlesinin arttığına değinilmiştir.
- D) IV.de, bir terim karmaşasından söz edilmektedir.
- E) V.de, bir saptama yapılmaktadır.

10. Benim temelimde ne kadar Dostoyevski, Hugo varsa, o kadar da Köroğlu, Dadaloğlu vardır. Yeni roman dili I II kurgu yaratarak çağların dili ile olmaz mı ? Elbette olur. III IV V

Bu parçadaki kaç numaralı yerde noktalama yanlış yapılmıştır?

- A) I. B) II. C) III.
- D) IV. E) V.

11. Verdiği her uzun aranın ardından yeni albümüyle gönlü-müzü fethetmeyi başaran pop müziğı sanatçısı, bu kez II III eski şarkılarını yeniden yorumlayarak geçmişe bugünün IV penceresinden bakıyor ve dinleyiciyi yine oldukça etkiliyor. V

Bu cümledeki numaralanmış sözcüklerin hangisin-de ses olayı yoktur?

- A) I. B) II. C) III. D) IV. E) V.

12. Sülüklü Sokağı'nın dar, dolanbaç sokaklarının birinde çıp-
lak ayaklarındaki takunyaları, bozuk kaldırımların üzerinde
at nalı gibi tıkırdıyarak koşan bir kız çocuğu viran bir evin
önünde durdu. Kapı tokmağını birkaç defa vurdu. Kapı
açılmadı.

Bu parçadaki numaralanmış sözlerin hangilerinin yazımında yanlışlık yapılmıştır?

- A) I ve II B) I ve III C) II ve IV
D) III ve V E) IV ve V

13. Aşağıdaki cümlelerin hangisinde isim tamlaması kullanılmamıştır?

- A) Uyku öncesinde anne tarafından söylenen ninnilerin, bebeği rahatlatıldığı bilinmektedir.
B) Bugün birçok anne, bebeklerine ninni söylememektedir.
C) Çocuk psikologları, ninni söylemenin gerekliliğini hep vurguluyorlar.
D) Annenin ezgili sesi, çocuğa rahat uyuma ortamı sağlar.
E) Şefkatli sesin yumuşaklığı, çocuğu duygusal yönden besler.

14. Bu mezar odası, surların restorasyonu sırasında, otuz yedinci kulenin güneyinde bulunmuş ve odanın MS 4. yüzyılda yapıldığı anlaşılmıştı.

Bu cümlede aşağıdakilerden hangisi yoktur?

- A) Etken çatılı eylem
B) İyelik eki
C) Türemiş ve birleşik sözcük
D) Birleşik çekimli eylem
E) İşaret ve sayı sıfatı

15. Aşağıdaki cümlelerin hangisi sadece özne ve yüklemden oluşmaktadır?

- A) Kütüphanedeki kitapların hepsini köy okullarına dağıtmıştı.
B) Muhtarlık seçimlerindeki tavırlarına herkes hayran kalmıştı.
C) Tarihin en kanlı savaşları yaşanmıştı burada.
D) Bebeğin koklanası, öpülesi ve sevilesi minik elleri vardı.
E) Yaşamın güzellikleri sanatta saklıdır, diyordu.

MURAT YAYINLARI

MURAT YAYINLARI

16. Türkiye'nin en güzel göllerinden biridir Eğirdir. Yüzülecek kadar temiz suyu ve plajlarıyla oldukça fazla turist çeken bir bölgedir. Uzaktan bakıldığında Barla Dağı'nın eteklerindeki muhteşem maviliğiyle konuklarını davet eder. Suyun yükselmesiyle göl içerisinde kalan söğüt ağaçları buraya ayrı bir güzellik katar.

Bu parçanın anlatımıyla ilgili aşağıdakilerden hangisi söylenemez?

- A) Kişileştirmeye başvurulmuştur.
B) Betimlemeye kişisel yorum katılmıştır.
C) Karşılaştırma yapılmıştır.
D) Görsel ögelere yer verilmiştir.
E) Örneklerden yararlanılmıştır.

17. (I) *Edebiyatçılar Geçiyor*, yazınsal bir yapıt değildir aslında. (II) Buna karşın edebiyatımızda klasikleşmiş kaynak niteliğindeki eserlerden biridir. (III) Kitap yeniden basıma hazırlanırken öncelikle onun aslına ve kendine özgü havasına sadık kalınmıştır. (IV) Rahatlıkla söyleyebiliriz ki bu kitap kendi zamanında çok okunmuş ve sevilmiştir. (V) Çünkü gününün dedikodulu bir aktüalitesinden ibaret gibi görünen eser, bundan sonraki zamanların dokümanter yapıtlardan biri olacaktır.

Bu parçadaki numaralanmış cümlelerden hangisi düşüncenin akışını bozmaktadır?

- A) I. B) II. C) III. D) IV. E) V.

18. Profesör, sonbaharda bir gün üniversite kampüsünden şehre gitmek için nehir kenarında uzun bir yürüyüşü seçmiştir. Birden, yerde kanatlarını güneşe açmış öylece duran kelebeği fark etti. Sıra dışıydı. Profesör "Türkiye'de kaydedilen kelebekler arasında 'maviler' diye adlandırılan kalabalık bir grup vardı ama bu kelebeğin mavisi ve kanatlarındaki desenler daha önce gördüklerime benzemiyordu." diyor. Profesör'ün daha sonra yaptığı araştırmalar, yoluna çıkan kelebeğin ve yanındaki birkaç türdeşinin Jononia Ortothya türünden olduklarını gösteriyordu. Afrika'dan Avusturalya'ya kadar geniş bir yayılış gösteren bu tür, böylece Türkiye'de ilk kez kaydedilmiş oldu.

Bu parçada kelebeğin

I. yaşadığı alanlar

II. fiziksel özellikleri

III. yaşam biçimi

özelliklerinden hangisi ya da hangilerine değinilmemiştir?

- A) Yalnız I B) Yalnız II C) Yalnız III
D) I ve II E) I ve III

19. Hangi kitapçıya girsem başvuru kitaplarının az olmasına ya da hiç bulunmamasına şaşırırm. Bir zamanlar bu tür kitapları çokça basan bir kitabevi artık bunları basmaz oldu. Piyasaya baktığımızda da hep aynı tür kitaplarla karşılaşırız. Bu nedenle, yayınevlerini birbirinden ayıran fazla özellik kalmadı. Yayınevlerini aynı türden kitap bastıkları için yadırgamamak gerektiğini düşünüyorum. Çünkü yayıncılıkta uzmanlaşmış yayınevlerinin ayakta durmaları az satan kaynak kitaplara değil, çok satan kitaplara bağlı.

Bu parçada vurgulanmak istenen düşünce aşağıdakilerden hangisidir?

- A) Kimi kitapçılarda başvuru kitaplarına az rastlanmaktadır.
- B) Başvuru kitaplarıyla ilgilenen okur sayısı azalmıştır.
- C) Uzmanlık isteyen alanlarda kitap yazmak kolay değildir.
- D) Başvuru kitaplarının getirisi yayınevinin yaşamasına yetmemektedir.
- E) Yayınevleri çok aranan kitapları basmaya yetişememektedir.

21. Aslında ben bir şey daha ilave etmek istiyorum: Bu eğitim sistemi bize çok da yabancı değil; insana insan olduğu için saygı duyulan ve mütevazı bir sabır ile çocukların fıtrî hallerini ortaya çıkartan bir eğitim şekli, bizim kültürümüz içinde de var. Sabır, hoşgörü... Bunlar kendi değerlerimiz aynı zamanda. Ancak görülen o ki bizim bu değerlerimiz akademik olarak Avrupa'da karşılık bulmuş ve oradan dünyaya yayılmış. Bizse kendi hoşgörü temelli, insan odaklı eğitimimizi bırakmış; klasik eğitimin çıkmaz sokaklarında çırpınıp durmaktayız.

Bu parçada verilmek istenen asıl düşünce aşağıdakilerden hangisidir?

- A) Avrupalılar bizim eğitim sistemimizi alıp kendilerine uyarlamışlardır.
- B) Sahip olduğumuz temel insanî özellikler, kıymetleri bilinmediğinden başkalarınca sahiplenilmiştir.
- C) Kültürümüzde yer alan bazı değerler Avrupalılar tarafından akademik bir eğitim hâline getirilmiştir.
- D) Klasik eğitim tarzı, bugün dünyada çoktan demode olmuş bir eğitim biçimidir.
- E) Bahsedilen dünyaca ünlü eğitim sistemine hiç de yabancı değiliz.

20. Dağ tepesinde bir çam olamazsan vadide bir çalı ol. Ama dere kenarındaki en iyi küçük çalı sen olmalısın. Çalı olamazsan bir avuç ot ol. Bir yola neşe ver. Bir nilüfer olamazsan bir saz ol. Ama gölün içindeki en canlı saz sen olmalısın. Hepimiz kaptan olamayız, tayfa olmaya da mecburuz. Burada hepimiz için birer iş var. Kazanmak ya da kaybetmek ölçü değildir. Her ne isen onun en iyisi sen ol.

Bu paragrafın anlatımı için aşağıdakilerden hangisi söylenemez?

- A) Niteleme sıfatlarından yararlanılmıştır.
- B) Koşul bildiren cümleler kullanılmıştır.
- C) Öneri içeren cümleler kullanılmıştır.
- D) Karşılaştırmalar yapılmıştır.
- E) İkilemeden yararlanılmıştır.

22. Bir yazarın, herhangi bir konu üzerinde kesin sonuçlara gitmeden, iddiasız ve ispatsız kişisel görüş ve düşüncelerini, içtenlikle belirttiği yazılardır deneme. Diğer bir deyişle kalem denemesi anlamında bu tür yazılar; konularını edebiyat, felsefe ve bilim dallarından alır. Denemeler genellikle makale uzunluğunda yazılmakla beraber, bazen bir kitap büyüklüğünde de olabilir. Başarılı bir deneme kitabı, başlı başına bir hayat kürsüsüdür.

Bu parçanın anlatımında aşağıdakilerden hangisini yoktur?

- A) Sezdirme
- B) Benzetme
- C) Tanımlama
- D) Karşılaştırma
- E) Açıklama

23. Çocuk edebiyatının yetişkin edebiyatından farklı olduğu düşünülmektedir. Onlara göre kitabın edebî yönünden çok, ahlâki ve eğitici yönü önemlidir. Hâlbuki çocuk edebiyatı diğer edebiyat türlerinden ayrılmaz. Aynı değer yargılarından geçer. İyi bir çocuk kitabının sadece eğitici ve ahlâki değerler vermesi yeterli değildir. Edebî temelleri oluşturması da beklenir. Demek ki iyi bir çocuk kitabı, çocuğun ilgi ve ruhsal ihtiyaçlarını karşılayan fakat her şeyden önce çocuğun zevkle okuduğu eser olmalıdır.

Aşağıdakilerden hangisi, bu parçada yer alan düşüncelerden biri değildir?

- A) Sanatsal temeller oluşturmak, bir çocuk kitabından beklenecek özelliklerdendir.
- B) Çocuklar, yetişkinler için yazılmış her tür kitabı okuyabilmelidir.
- C) İyi bir çocuk kitabı yalnızca iki yönden oluşmaz.
- D) Çocuğun zevk aldığı, ilgisini ve ihtiyaçlarını karşılayan kitap, iyi bir çocuk kitabıdır.
- E) Çocuk edebiyatı diğer edebiyat türlerinden ayrı düşünülemez.

24. I. Öykülerde üzerinde durulması gereken önemli bir nokta, yaşananların somut ayrıntılarıyla verilmesidir.
II. Yazar da "Kağı" öyküsünde elle tutulur, gözle görülmür gerçekleri doğal bir anlatımla sunuyor okurlarına.
III. Yazarın öykü yazmadaki bütün bu başarılı tutumları ve okur tarafından sevilmesi onun yeni yeni kitaplarla karşımıza çıkacağının habercisi oluyor.
IV. Seçilen konunun gerçek yaşamdan alınması, ince seçilmiş insanlık halleri de buna eklenince öyküserverler kitabı elinden bırakamıyor.
V. Ustaca kullandığı dilindeki bu içtenlik ve doğruluk okuru ta öykünün başında sarmalayıyor.

Yukarıdaki numaralı cümlelerin anlamlı bir bütün oluşturması için hangi cümleler birbiriyle yer değiştirmelidir?

- A) I. ile II. B) II. ile III. C) II. ve IV.
- D) III. ve V. E) IV. ile V.

MURAT YAYINLARI

MURAT YAYINLARI

25. İnsanların beğenileri birbirine uymaz. O belki kırmızıdan hoşlanır, siz yeşili seviyorsunuzdur. O belki Wagner'in müziğini beğeniyor, siz Mozart'ı yeğliyorsunuzdur. Beğenileri sizinkine uymuyor diye, onu beğenisizlikle, kabalıkla mı suçlayacaksınız? Ona kızacak mısınız? Onun da sizin de beğendiğiniz şeyleri, yansız olarak değerlendirmelisiniz. İşte düşünce alanında da böyledir --- .

Bu parçanın sonuna aşağıdakilerden hangisi kesinlikle getirilemez?

- A) Bütün düşünceleri ve varsayımları bize göre ve bazı yönleriyle savunmak olanağı vardır
- B) Size seslenen kimsenin düşüncelerini öyle anlayıp dinlemeden geri çevirmeye kalkışmayınız
- C) Onları da beğenileriniz gibi inceleyiniz, bakalım ne gibi yenilikler bulacaksınız
- D) Bütün insanların düşüncelerinde iyi ve kötü yönler görmek, doğru ve yanlış noktalar bulmak mümkündür
- E) Beğenilerin farklılığı kadar düşüncelerin de farklılığından bahsetmek mümkün değildir

26. Usta bir romancımız, roman yazacak adaylara şöyle seslenmektedir: "Yazmayı yaza yaza öğrenin. Sizi amacınıza ulaştıracağına inandığınız türden çok sayıda kitap okuyun. Sözcük dağarcığınızı geliştirin. Sürekli yazma denemeleri yaparak kendi sesinizi bulun. Yaşamı aklıyla karasıyla, bütün yönleriyle tanımaya çalışın ve böylece gözlemlerinizi, izlenimlerinizi kâğıda dökmeyi deneyin.

Bu parçada sözü edilen usta romancının, yazar adaylarına verdiği öğütler arasında aşağıdakilerden hangisi yoktur?

- A) Tutarlı davranmak
- B) Özgün olmak
- C) Tecrübe kazanmak
- D) Seçici olmak
- E) Donanımı zenginleştirmek

27. Dicle Irmağı'nın kıyısında, dik kayaların çevrelediği bu kasabanın tahtadan yapılmış evleri, her yönüyle gezip görmeye değer. Evlerin kapıları, pencereleri ilk bakışta insanın dikkatini çekiyor. Kültürel bir değer olan kapılar ve pencereler, bana hep yaşlıların yalnızlığını anımsatır. Kapı önlerinde, ahşap pencerelerin arkasında oturan yaşlılar hep yol gözler. Gurbetten gelecek çocuklarını, torunlarını bekler. Çünkü yöre insanı uzun yıllardan beri gurbete gitmeye alışmıştır.

Bu parçada sözü edilen kasabayla ilgili olarak aşağıdakilerin hangisi söylenemez?

- A) Kimi coğrafi özelliklerinin vurgulandığı
- B) Evlerin hangi yönlerden kültürel değer taşıdığı
- C) Genç nüfusun ne gibi etkinliklere yöneldiği
- D) Pencerelerin hangi duyguları çağırıştırdığı
- E) Yaşayanların ortak özelliğinin olduğu

28 - 30. soruları aşağıdaki bilgiye göre cevaplayınız.

A, B ve C takımlarının ligin ilk beş haftasında farklı takımlarla yaptığı müsabakalarda elde ettiği galibiyet, mağlubiyet ve beraberlik sonuçları ile ilgili şunlar bilinmektedir:

- A takımın üç galibiyet iki beraberliği vardır.
- Sadece 3. hafta üç takım da farklı sonuçlar almıştır.
- A takımının galip geldiği haftaların birinde B takımı ve C takımı berabere kalmıştır.
- B takımı 2. hafta mağlup olmuştur ve bir beraberliği vardır.
- C takımı üç hafta üst üste berabere kalmıştır ve bir galibiyet, bir mağlubiyeti vardır.
- 5. hafta üç takım aynı sonucu elde etmişlerdir.

28. Aşağıdakilerden hangisi kesinlikle doğrudur?

- A) B takımı ikinci hafta galip gelmiştir.
- B) B takımı 4. hafta mağlup olmuştur.
- C) A takımı 3. hafta galip gelmiştir.
- D) C takımı 1. hafta berabere kalmıştır.
- E) C takımı 4. hafta mağlup olmuştur.

29. Aşağıdakilerden hangisi kesinlikle yanlıştır?

- A) C takımı 2. hafta berabere kalmıştır.
- B) C takımı 4. hafta berabere kalmıştır.
- C) 5. hafta üç takımda galip gelmiştir.
- D) A takımı 4. hafta galip gelmiştir.
- E) B takımı 2. hafta galip gelmiştir.

30. Aşağıdakilerden hangisi kesinlikle doğrudur?

- A) B takımının üç mağlubiyeti vardır.
- B) A takımı 1. hafta galip gelmiştir.
- C) B takımı 4. hafta berabere kalmıştır.
- D) C takımı 1. hafta mağlup olmuştur.
- E) A takımı 4. hafta berabere kalmıştır.

31.

$$\frac{1}{\frac{1}{0,1} + \frac{1}{0,2} + \frac{1}{0,5}}$$

işleminin sonucu kaçtır?

- A) $\frac{1}{13}$
- B) $\frac{1}{17}$
- C) $\frac{3}{17}$
- D) $\frac{2}{15}$
- E) $\frac{1}{15}$

32. $x < \frac{5}{3} < y < \frac{17}{9}$ sıralamasında birbirini izleyen sayılar

arasındaki fark eşittir. Buna göre, $x - y$ kaçtır?

- A) $-\frac{2}{9}$
- B) $-\frac{1}{9}$
- C) $-\frac{3}{5}$
- D) $\frac{2}{9}$
- E) $\frac{1}{9}$

33. Bir torbada 3 sarı, 4 beyaz, 6 mor ve 5 yeşil top vardır. Torbadan çekilen her bir top boş bir cam kavanoza atılıyor.

Kavanozda her renkte en az bir top olmasını garantilemek için bu torbadan en az kaç top çekmek gerekir?

- A) 4
- B) 12
- C) 14
- D) 15
- E) 16

34.

$$\frac{180!}{100!} - 1 \text{ işleminde sondan kaç basamak 9'dur?}$$

- A) 19
- B) 20
- C) 24
- D) 44
- E) 68

35. $a = \sqrt{5} + 3$ olduğuna göre, $\frac{6\sqrt{5}}{a-b} + \frac{20}{a+b}$ işleminin sonucu kaçtır?

A) $\sqrt{5}$ B) 3 C) 5
D) $3\sqrt{5}$ E) $4\sqrt{5}$

39. x sayısının 9 ile bölümünden kalan 8 olduğuna göre, $(x^3 + 10)$ sayısının 9 ile bölümünden kalan kaçtır?

A) 0 B) 1 C) 2 D) 3 E) 4

MURAT YAYINLARI

40. 32^{78} sayısının birler basamağındaki rakam kaçtır?

A) 4 B) 5 C) 6 D) 7 E) 8

36. $\frac{xy^3 + x^2y}{xy + y - x - 1} : \frac{y^2 + x}{y - 1}$ ifadesinin sadeleştirilmiş biçimi aşağıdakilerden hangisidir?

A) $\frac{x+1}{y}$ B) $\frac{x+y}{y+1}$ C) $\frac{x}{x+y}$
D) $\frac{y}{y+1}$ E) $\frac{xy}{x+1}$

41. $x \Delta y = \{ x.y\text{'nin en büyük asal böleni} \}$ şeklinde tanımlı Δ işlemi için $(16 \Delta 11) \Delta (13 \Delta 57)$ işleminin sonucu kaçtır?

A) 11 B) 13 C) 17 D) 19 E) 23

42. ve 43. soruları aşağıdaki bilgiye göre cevaplayınız.

1, 3, 4, 5 ve 8 rakamları kullanılarak rakamları birbirinden farklı üç basamaklı ABC doğal sayıları oluşturuluyor.

42. Bu sayılardan kaç tanesi 5'e tam bölünür?

A) 9 B) 10 C) 12 D) 13 E) 14

MURAT YAYINLARI

38. $a > 1$ olmak üzere;
 $\|x - 3| - 1| = a$ eşitliğini sağlayan x değerlerinin toplamı kaçtır?

A) 4 B) 5 C) 6 D) 7 E) 8

43. Bu sayılardan kaç tanesinin rakamları toplamı 12'den küçüktür?

A) 24 B) 21 C) 20 D) 18 E) 12

44. Zeki'nin birim zamanda yaptığı iş Metin'in iş yapma kapasitesinin 3 katıdır. Zeki ve Metin işe başlayıp $\frac{4}{5}$ 'ini tamamladıktan sonra Metin işi bırakıyor.

Kalan işi Zeki tek başına 1 günde bitirdiğine göre, Metin bu işin tamamını kaç günde bitirir?

- A) 11 B) 12 C) 13 D) 14 E) 15

45. Boyları aynı olan iki mumdan birincisi yakıldıktan 12 saat sonra, ikincisi ise yakıldıktan 15 saat sonra bitiyor.

Buna göre, iki mum aynı anda yakıldıktan kaç saat sonra mumların kalan boyları oranı $\frac{1}{4}$ olur?

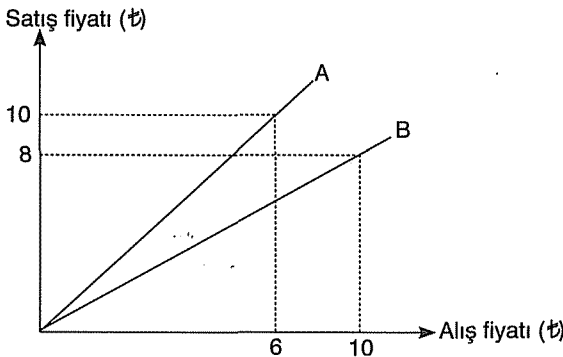
- A) 19 B) $\frac{45}{4}$ C) 12 D) $\frac{40}{3}$ E) 15

46. Nazlı dairesel bir pistin tamamını koşarak 60 dakikada, yürüyerek 72 dakikada bitiriyor. Nazlı yürürken 15 saniyede 30 adım, koşarken 15 saniyede 40 adım atıyor.

Pistin yarısını koşarak yarısını yürüyerek tamamlayan Nazlı toplam kaç adım atmıştır?

- A) 9720 B) 9360 C) 9260
D) 9120 E) 9000

47. Aşağıdaki doğrusal grafik iki malın alış fiyatı ile satış fiyatı arasındaki bağıntıyı göstermektedir.



Bu, her iki mal da ₺ 40'ye satıldığında elde edilen toplam kâr-zarar durumu aşağıdakilerden hangisidir?

- A) ₺ 16 kâr B) ₺ 8 zarar C) ₺ 6 kâr
D) ₺ 24 kâr E) Ne kâr - Ne zarar

48. Bir torbadan rastgele seçilen bir topun kırmızı olma olasılığı $\frac{1}{3}$ 'tür.

Buna göre, seçilen top geri atılmak şartıyla bu torbadan rastgele seçilen 3 topun en az ikisinin kırmızı olma olasılığı kaçtır?


- A) $\frac{5}{7}$ B) $\frac{5}{27}$ C) $\frac{7}{27}$ D) $\frac{16}{27}$ E) $\frac{19}{27}$

49. Ali, cevizlerini kardeşleriyle eşit olarak paylaştığında her birine 10 ceviz düşüyor. Eğer kardeşlerinin her birine 6 ceviz verirse kendisinde 18 ceviz kalıyor.

Buna göre, Ali'nin toplam kaç cevizini vardır?

- A) 28 B) 30 C) 32 D) 36 E) 40

- 50.



Birim karelerden oluşan yukarıdaki şekilde 2 x 2 bo-yutlarında kaç farklı kare vardır?

- A) 17 B) 18 C) 19 D) 20 E) 21

51 - 53. soruları aşağıdaki bilgiye göre cevaplayınız.

90 soruluk bir sınavda A, B, C, D alt testleri bulunmaktadır. A testi 45 soru, B testi 19 soru, C testi 14 soru ve D testi 12 sorudan oluşmaktadır. Bir öğrencinin aldığı puan aşağıdaki şekilde hesaplanmıştır.

- Doğru yanıtlanan her soru A testinde 2 puan, B testinde 1,5 puan, C testinde 1 puan ve D testinde 0,5 puan değerindedir.
- Yanlış olarak yanıtlanan ve boş bırakılan sorular için puan düşülmemektedir.

MURAT YAYINLARI

51. Toplam 65 soruyu doğru olarak yanıtlayan bir öğrencinin sınavdan alacağı puan en fazla kaçtır?

- A) 118,5 B) 119,5 C) 121,5
D) 122 E) 124

52. D testinin tümü doğru olan öğrencinin, B testindeki doğru yanıt sayısı, A testindeki doğru yanıt sayısının 6 katıdır.

Bu öğrencinin doğru olarak yanıtladığı toplam soru sayısı 38 ve sınavdan aldığı puan 44 olduğuna göre, C testindeki doğru yanıt sayısı kaçtır?

- A) 3 B) 4 C) 5 D) 6 E) 7

MURAT YAYINLARI

53. Bir öğrenci B testinden 14 ve D testinden 10 soruyu doğru yanıtlayarak aldığı puanı sadece A testinden kaç soruyu doğru yanıtlayarak alabilir?

- A) 9 B) 11 C) 10 D) 12 E) 13

54. Bir düzgün altıgenin köşegenlerinin tümü çiziliyor. Altıgenin köşe noktaları sarıya, köşegenlerinin diğer kesim noktaları da beyaza boyanıyor.

Buna göre, beyaz noktaların sayısı kaçtır?

- A) 15 B) 13 C) 11 D) 9 E) 7

55. Bir pozitif tam sayının pozitif bölenleri küçükten büyüğe doğru sırasıyla 1, 2, 3, a, 13, b, c, d olduğuna göre, $a + b + c + d$ toplamı kaçtır?

- A) 139 B) 144 C) 149
D) 154 E) 165

56. ve 57. soruları aşağıdaki bilgiye göre cevaplayınız.

Aşağıdaki tablo I. karışım ve II. karışımı elde etmek için hangi renkteki boyalardan yüzde olarak ne kadar kullanılması gerektiğini göstermektedir.

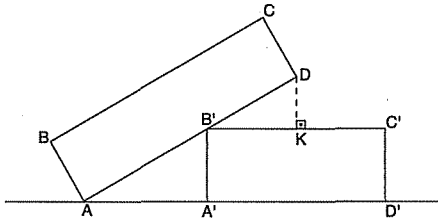
	I.	II.
sarı	%10	%40
kırmızı	%30	%50
beyaz	%60	%10

MURAT YAYINLARI

56. 10 kg'lık I. karışımın üzerine 2 kg sarı boya ekleniyor. Yeni karışımın beyaz boya yüzdesi kaçtır?
A) 30 B) 35 C) 40 D) 45 E) 50

57. 20 kg'lık I. karışım üzerine II. karışımından bir miktar ekleniyor. Yeni karışımındaki sarı boya oranı %20 olduğuna göre, II. karışımından kaç kg eklenmiştir?
A) 4 B) 6 C) 8 D) 10 E) 12

58.



$|AB| = 2 \text{ cm}$

$|BC| = 12 \text{ cm}$

$|DK| = 4 \text{ cm}$

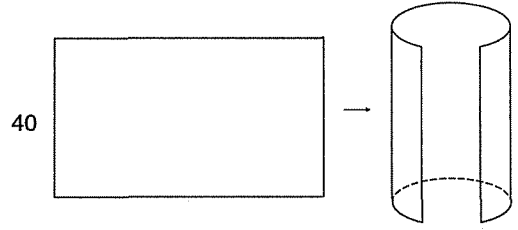
ABCD ve A'B'C'D' dikdörtgenleri eş dikdörtgenlerdir.

Buna göre, $|AA'|$ kaç cm'dir?

- A) 3 B) 4 C) $3\sqrt{3}$ D) $2\sqrt{3}$ E) $\sqrt{3}$

MURAT YAYINLARI

59.



Kısa kenar 40 cm ve alanı 3600 cm^2 olan dikdörtgen biçimindeki bir kartonun uzun kenarı şekildeki gibi kıvrılarak bir silindir elde ediliyor.

Bu silindirin yarı çapı kaç cm'dir?

- A) $\frac{45}{\pi}$ B) $\frac{40}{\pi}$ C) $\frac{30}{\pi}$
D) $\frac{15}{\pi}$ E) 5π

60. $6x - 8y = 8$ doğrusuna paralel olan ve $A(3, -1)$ noktasından geçen doğrunun denklemi aşağıdakilerden hangisidir?

- A) $2y - x = 13$
B) $4y - 3x = -13$
C) $2y + 3x = -11$
D) $3y - 2x = -4$
E) $y + x = 4$

• GENEL KÜLTÜR - LİSANS •
Deneme - 4

1. 751 Talas Savaşı'nda Çin'in Abbasi Devleti'ne yenilmesinden faydalanarak bölgedeki hâkimiyet sahasını genişleten Orta Asya Türk Devleti aşağıdakilerden hangisidir?

A) Asya Hunları
B) Uygurlar
C) Kutluklar
D) Köktürkler
E) Türgişler

2. Aşağıdakilerden hangisi Karahanlıların Orta Asya Türk devlet geleneklerini sürdürdüğüne kanıt olarak gösterilebilir?

A) Saltanat çadırının yağmalanması
B) İkili teşkilatın uygulanması
C) Şölenlerin düzenlenmesi
D) Ülke topraklarının hanedanın ortak malı olması
E) Halifeden menşur alınması

3. Türk İslam devletlerinde,

I. Vakıf
II. Has
III. İktâ

gibi toprak gelirlerinden hangilerinin kullanılmasındaki temel amaç iktisadi refahı toplumun tüm kesimlerine yaymaktır?

A) Yalnız I
B) Yalnız II
C) Yalnız III
D) I ve II
E) II ve III

MURAT YAYINLARI

MURAT YAYINLARI

4. Osmanlı Devleti'nin Kuruluş Dönemi'nde Anadolu Türk siyasi birliğinin sağlanması için faaliyet gösteren hükümdarlar arasında aşağıdakilerden hangisi yer almaz?

A) I. Bayezit
B) II. Murat
C) I. Murat
D) I. Selim
E) I. Mehmet

5. Osmanlı devlet teşkilatlanması,

I. Memlükler,
II. Türkiye Selçukluları,
III. Asya Hunları

gibi devletlerin hangilerinden etkilenmiştir?

A) Yalnız I
B) Yalnız II
C) Yalnız III
D) I ve II
E) I, II ve III

6. Osmanlı Devleti'nde padişaha bağlı güçlü bir merkez otorite tesis etmek için aşağıdakilerden hangisinin gerçekleştirildiği söylenemez?

A) Müsadere sisteminin uygulanması
B) Kanunname-i Ali Osman'ın çıkarılması
C) Rumeli ve Anadolu Beylerbeyliğinin kurulması
D) Tımar sisteminin düzenli bir şekilde uygulanması
E) Kanunuesası'nın kabul edilmesi

7. I. Beylerbeyi
II. Sancakbeyi
III. Subaşı
- Yukarıdakilerden hangileri Has arazilerden devletin belirlediği ölçüde gelir alan görevliler arasında yer alır?**
- A) Yalnız I B) Yalnız II C) Yalnız III
D) I ve II E) I, II ve III

8. Osmanlı Devleti'nde Mekke ve Medine kadılıklarına verilen isim aşağıdakilerden hangisidir?
- A) Nakib'ül Eşraf
B) Hameyn Mevleviyet Kadılığı
C) Mahreç Mevleviyet Kadılığı
D) Taht Kadılığı
E) Kaza Kadılığı

9. Hacı Halife (Hacı Kalfa) olarak isimlendirilen ve IV. Murat'a rapor sunan Osmanlı bilgini aşağıdakilerden hangisidir?
- A) Koçi Bey
B) Tarhuncu Ahmet Paşa
C) Katip Çelebi
D) Köprülü Mehmet Paşa
E) Merzifonlu Kara Mustafa Paşa

10. Osmanlı Devleti'nin Mısır sorunu ile ilgili Rusya'dan destek almak amacıyla imzaladığı antlaşma aşağıdakilerden hangisidir?
- A) Hünkar İskelesi
B) Kütahya
C) Balta Limanı
D) Edirne
E) Bükreş

11. II. Mahmut Dönemi'nde yapılan aşağıdaki ıslahatlardan hangisi Seyfiye (askeri) sınıfının yönetimdeki etkisini azaltmıştır?

- A) Vakayı Hayriye'nin gerçekleşmesi
B) Harbiye ve Tıbbiye'nin açılması
C) Takvimi Vakayı'nın çıkarılması
D) Mızıkaî Hümayu'nun kurulması
E) Mürur Tezkiresi'nin çıkarılması

12. Balkan Savaşları sonrasında Osmanlı Devleti'nin, sınırları kalmamasına rağmen antlaşma imzaladığı devlet aşağıdakilerden hangisidir?

- A) Bulgaristan
B) Arnavutluk
C) Sırbistan
D) Romanya
E) Karadağ

13. Millî Mücadele Dönemi'nde 10 Aralık 1919 tarihinde Zekiye Hanım tarafından Kastamonu'da kurulan millî cemiyet aşağıdakilerden hangisidir?

- A) Müdafaa-i Hukuk Kadınlar Şubesi
B) Asri Kadınlar Cemiyeti
C) Milli Kongre Cemiyeti
D) Trabzon Muhafazayı Hukuku Milliye Cemiyeti
E) Kilikyalılar Cemiyeti

14. I. Havza Genelgesi
II. Amasya Tamimi
III. Erzurum Kongresi
IV. Balıkesir Kongresi

Yukarıda verilen genelge ve kongrelerden hangilerinde millî egemenlik ile ilgili karar alınmıştır?

- A) Yalnız II B) I ve II C) II ve III
D) I, II ve IV E) II, III ve IV

15. Ali Fuat Cebesoy, Milli Mücadele Dönemi'nde;

- I. Moskova Büyükelçiliği,
 - II. TBMM Başkanlığı,
 - III. Batı Anadolu Genel Kuvayımiliye Komutanlığı
- görevlerinden hangilerini üstlenmiştir?**

- A) Yalnız I B) Yalnız II C) Yalnız III
D) I ve II E) I, II ve III

16. Milli Mücadele Muharebeler Dönemi'nde İtalya ve Fransa'nın Türkiye Büyük Millet Meclisi Hükümeti ile anlaşma yolları aramaya başlamaları aşağıdaki savaşlardan hangisinden sonra gerçekleşmiştir?

- A) I. İnönü
B) II. İnönü
C) Kütahya Eskişehir
D) Büyük Taarruz
E) Sakarya

17. İsmet İnönü "Çok ıstırap çektik, çok kan akıttık bütün medeni milletler gibi hürriyet ve bağımsızlık istiyoruz..." sözlerini aşağıdakilerden hangisi esnasında söylemiştir?

- A) Mudanya Ateşkes Anlaşması
B) I. İnönü Savaşı
C) II. İnönü Savaşı
D) Lozan Barış Görüşmeleri
E) Cumhuriyetin ilanı

18. Çok partili hayata geçiş için gerekli demokratik ortamın henüz oluşmadığını gösteren ilk olay aşağıdakilerden hangisidir?

- A) Şeyh Salt B) Menemen C) Bursa
D) Vagon Lits E) Razgrad

19. "Bir toplumun bir uzvu faaliyette bulunurken öteki uzvu atalette olursa, o toplum felce uğramış demektir."

Atatürk'ün yukarıda verilen sözü doğrultusunda;

- I. Medeni Kanun'un kabul edilmesi,
 - II. Kadınlara siyasi hakların verilmesi,
 - III. Tekke, zaviye ve türbelerin kapatılması
- çalışmalarından hangilerinin gerçekleştirildiği söylenebilir?**

- A) Yalnız I B) Yalnız II C) Yalnız III
D) I ve II E) I, II ve III

20. Atatürk Dönemi'nde dil ve tarih alanlarında yapılan çalışmalar arasında aşağıdakilerden hangisi yer almaz?

- A) Birinci Dil Kurultayının toplanması
B) Dil ve Tarih Coğrafya Fakültesi'nin açılması
C) İkinci Dil Kurultayının toplanması
D) Belleten Dergisi'nin çıkarılması
E) Birinci Coğrafya Kongresinin düzenlenmesi

21. Türkiye Büyük Millet Meclisi'nde 21 Haziran 1934'te kabul edilen Soyadı Kanunu kapsamında;

- I. Her Türk öz adından başka soyadını da taşımaya mecburdur.
- II. Söyleyişte öz ad sonda, soy ad önde yazılır.
- III. Yazılışta öz ad önde, soy ad sonda yazılır.
- IV. Umumi edepere uygun olmayan soyadları kullanılamaz.

gibi düzenlemelerden hangileri yer alır?

- A) I ve III B) II ve III C) III ve IV
D) I, III ve IV E) II, III ve IV

22. I. Saltanatın kaldırılması

- II. Halifeliğin kaldırılması
- III. Tek dereceli seçim sistemine geçilmesi

Yukarıdakilerden hangileri Atatürk Dönemi'nde Cumhuriyet rejiminin yerleşmesi ve güçlendirilmesinde etkili olan inkılaplar arasında yer alır?

- A) Yalnız I B) Yalnız II C) Yalnız III
D) I ve II E) II ve III

23. I. Hatay'ın anavatan katılması
II. Boğazlar sorunu
III. Musul Sorunu

Yukarıda verilen dış politika gelişmelerinden hangilerinin Atatürk Dönemi'nde milli politikaya uygun olarak çözümlendiği söylenebilir?

- A) Yalnız II B) I ve II C) I ve III
D) II ve III E) I, II ve III

24. Türkiye'nin Milletler Cemiyeti'ne üye olmasından sonra 1934'te üye olan ve böylece Türkiye ile ilişkileri daha olumlu seyreden devlet aşağıdakilerden hangisidir?

- A) İtalya
B) Sovyet Rusya
C) Almanya
D) Fransa
E) Yunanistan

25. Aşağıdakilerden hangisi Demokrat Parti Dönemi'nde açılan bankalar arasında yer almaz?

- A) Şekerbank
B) Vakıfbank
C) Denizcilik Bankası
D) Emlak ve Eytam Bankası
E) Öğretmenler Bankası

26. Aşağıda verilen konferanslardan hangisi İkinci Dünya Savaşı devam ederken toplanmamıştır?

- A) I. Kahire
B) Bandung
C) Yalta
D) Potsdam
E) Tahran

27. 1991 yılında Alma Ata Zirvesi ile kurulan teşkilat aşağıdakilerden hangisidir?

- A) Türk İşbirliği Kalkınma Ajansı
B) Karadeniz Ekonomik İşbirliği
C) Türk Kültür Teşkilatı
D) Şanghay İşbirliği Teşkilatı
E) Bağımsız Devletler Topluluğu

28. Türkiye'de özel konumun sonucu olarak yükselti batıdan doğuya doğru artar. Türkiye'nin matematik konumunun sonucu olarak sıcaklık kıyılar boyunca güneyden kuzeye doğru azalır.

Yalnızca yukarıdaki bilgilere dayanarak aşağıdakilerden hangisine ulaşamaz?

- A) Batıdan doğuya gidildikçe sıcaklık azalır.
B) Akdeniz kıyıları Karadeniz kıyılarından daha sıcaktır.
C) Kuzey güney yönlü ulaşım güçtür.
D) Akdeniz'in tuzluluk oranı Karadeniz'den daha fazladır.
E) Batıdan doğuya gidildikçe tarım ürünlerinin olgunlaşma süresi uzar.

29. Aşağıdaki tabloda Türkiye arazisinin eğim dereceleri ile bunların ülke yüzölçümüne oranı verilmiştir.

Eğim (%)	Ülke yüzölçümüne oranı(%)
0-15	8,5
5-10	12,8
10-15	16,2
15'ten fazla	62,5

Yalnızca tablodaki bilgilere dayanarak Türkiye ile ilgili aşağıdaki yargılardan hangisine ulaşılabilir?

- A) Kıvrım dağları geniş yer kaplar.
B) Yükseltisi batıdan doğuya gidildikçe artar.
C) İç kesimlerde geniş ovalar ve platolar yer alır.
D) Dağlık ve engebeli bir ülkedir.
E) Kıyılarında girinti ve çıkıntı fazladır.

30. Doğu Anadolu Bölgesi'nde tarımsal faaliyetler hayvancılık faaliyetlerinin gerisinde kalmıştır.

Aşağıdakilerden hangisi bunun nedenlerinden biri değildir?

- A) Yer şekillerinin engebeli olması
- B) Çiftçi sayısının az olması
- C) Yükseltinin fazla olması
- D) Ortalama sıcaklıkların düşük olması
- E) Tarıma elverişli alanların dar olması

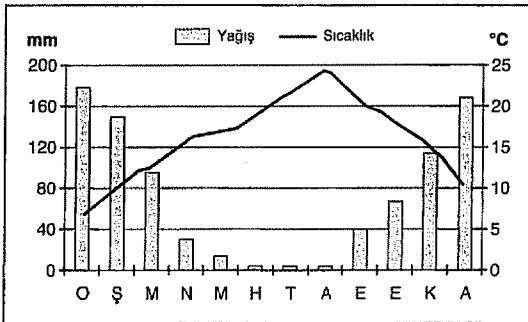
MURAT YAYINLARI

31. Şehirlerin etki alanlarını; nüfusları, coğrafi konumları, ulaşım imkanları ve sanayileşme düzeyleri belirler.

Buna göre, aşağıdaki şehirlerden hangisinin etki alanı daha dardır?

- A) Adana
- B) Bursa
- C) Konya
- D) Samsun
- E) Sivas

32. Aşağıda, Türkiye'de bir yöreye ait sıcaklık ve yağış grafiği gösterilmiştir.



Bu yöre için;

- I. Yaz mevsimi kurak geçer
- II. Deniz turizmi gelişmiştir
- III. Zeytin ve turunçgiller yetiştirilebilir
- IV. Kış aylarında föhn rüzgarı etkilidir.

durumlarından hangileri kesinlikle söylenebilir?

- A) I ve II
- B) I ve III
- C) II ve III
- D) II ve IV
- E) III ve IV

MURAT YAYINLARI

33. Dünya'da son yıllarda meydana gelen bazı doğal afetler şunlardır:

- I. Afganistan'ın kuzeyinde 9 Şubat 2010 tarihinde meydana gelen çığ felaketinde 157 kişi yaşamını yitirdi.
- II. 23 Ağustos 2005 tarihinde Meksika Körfezi'nde meydana gelen Katrina Kasırgası'nda 1836 kişi hayatını kaybetmiştir.
- III. 26 Aralık 2004 günü Endonezya'nın Sumatra adası kıyılarında meydana gelen tsunami sonucunda 230.000'den fazla insan öldü.

Yukarıdaki doğal afetlerden hangilerinin benzerlerinin Türkiye'de görülme olasılığı daha yüksektir?

- A) Yalnız I
- B) Yalnız II
- C) Yalnız III
- D) I ve II
- E) II ve III

34. Ege Bölgesi'nin iç kesimlerinden kaynağını alan ve Ege Denizi'ne dökülen Bakırçay, Gediz, B. Menderes ve K. Menderes akarsuları yıl içinde çok fazla su taşımamalarına karşın en fazla suyu kış mevsiminde, en az suyu yaz mevsiminde taşırlar. Yataklarında genellikle menderesler çizerler. Ağızlarında delta ovaları oluştururlar.

Yukarıdaki parçada adı geçen akarsuların hangi özelliğinden bahsedilmemiştir?

- A) Debilerinin düşük olduğu
- B) Kaynağını yüksek dağlardan aldıkları
- C) Rejimlerinin düzensiz olduğu
- D) Açık havzaya sahip oldukları
- E) Bol miktarda alüvyon taşıdıkları

35. Aşağıda Türkiye'yi çevreleyen denizlerle ilgili verilen bilgilerden hangisi yanlıştır?

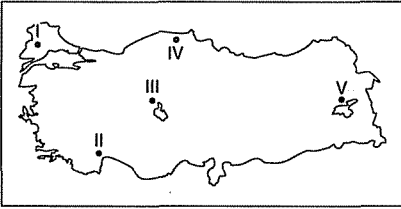
- A) En tuzlu deniz Akdeniz'dir.
- B) Karadeniz'in 200 m'den daha derin yerlerinde canlı yaşamı yoktur.
- C) Marmara Denizi ve boğazlar dördüncü jeolojik zamanda oluşmuştur.
- D) Balık sayısı en fazla olan deniz Karadeniz'dir.
- E) Kıyı önünde ada sayısı en fazla olan deniz Akdeniz'dir.

36. Türkiye’de kırsal kesimden ve küçük şehirlerden büyük şehirlere doğru göç yaşanmaktadır.

Aşağıdakilerden hangisi göç veren kırsal yerlerde ortaya çıkan sonuçlardan değildir?

- A) Nüfuslarının azalması
B) Kamu yatırımlarının azalması
C) Tarım alanlarının işletilememesi
D) Çevre sorunlarının artması
E) Eğitim ve sağlık kurumlarının kapanması

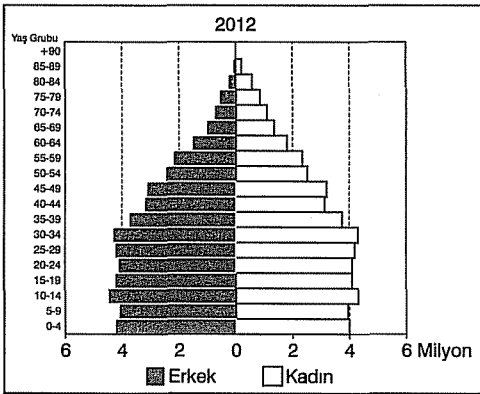
37. Volkanik arazide, akarsu etkisiyle oluşan hafif bünyeli, kumlu, geçirirli gevşek malzemeli topraklara regosol toprak denir.



Buna göre yukarıdaki harita üzerinde numaralandırılarak gösterilen alanlardan hangisinde regosollerin görülme olasılığı daha fazladır?

- A) I B) II C) III D) IV E) V

38. Aşağıda Türkiye’nin 2012 yılı nüfus piramidi verilmiştir.



Yalnızca grafikteki bilgilere bakılarak aşağıdakilerden hangisine ulaşamaz?

- A) Son yıllarda doğum oranları azalmıştır.
B) 65 yaş üstü nüfusta kadın sayısı erkeklerden fazladır.
C) En fazla nüfus 10-14 ile 30-34 yaş grubundadır.
D) Aritmetik nüfus yoğunluğu giderek azalmaktadır.
E) Çalışma çağındaki kadın ve erkek sayıları birbirine yakındır.

39. Aşağıdaki tabloda bazı illerimizin tarım alanı ile nadasa ayrılan alanları görülmektedir.

İller	Tarım Alanı (Dekar)	Nadas Alanı (Dekar)
Bursa	3.230.785	176.889
Aydın	3.755.028	25.518
Konya	20.769.209	8.064.840
Rize	546.668	---
Erzurum	3.458.258	1.118.895

Yukarıdaki tabloya bakılarak aşağıdakilerden hangisine ulaşamaz?

- A) Kıyı bölgelerimizde nadasa ayrılan alan genelde daha azdır.
B) Verilen iller içinde tarım alanı en geniş olan il Konya’dır.
C) Rize’de nadasa bırakılan alan yoktur.
D) Aydın ilinde sulama imkanı geniştir.
E) Bursa’nın tarım alanı Erzurum’dan fazladır.

40. Aşağıdaki tabloda Türkiye’nin 2009 yılında elektrik enerjisi üretiminde kullandığı enerji kaynaklarının payları verilmektedir.

	Payı (%)
Doğalgaz	48,6
Kömür	28,3
Su gücü	18,5
Petrol	3,5
Diğer (Rüzgâr-Jeotermal)	1,1

Yalnızca tabloya bakılarak aşağıdaki yargılardan hangisine ulaşılabilir?

- A) Türkiye, en çok elektriği doğalgazdan elde etmektedir.
B) Üretilen elektriğin büyük bir kısmı sanayi sektöründe kullanılmaktadır.
C) Elektrik üretiminde yerli kaynaklar daha fazla kullanılmaktadır.
D) Üretilen elektriğin yarısından fazlası yenilenebilir kaynaklardan sağlanmaktadır.
E) Rüzgâr ve jeotermalin payı giderek artmaktadır.

41. I. Linyit
II. Krom
III. Bor
IV. Fosfat

Yukarıdaki madenlerden hangileri Türkiye'nin ihraç ettiği madenlerdendir?

- A) I ve II B) I ve III C) II ve III
D) II ve IV E) III ve IV

42. Türkiye'de maden işleyen fabrikalar genelde ya ham-maddeye yakın ya da enerji kaynaklarına yakın yerlerde kurulmuştur.

Aşağıdakilerden hangisi bu genellemeye uymaz?

- A) Karabük Demir-Çelik fabrikası
B) Elazığ Ferro-krom İşletmeleri
C) Samsun Bakır İşleme Tesisleri
D) Seydişehir Alüminyum Entegre Tesisleri
E) Eskişehir Kırka Bor Türevi Tesisleri

43. Bir turist kafilesi aşağıdaki tarihi yerleri gezmiştir:

- I. Çatalhöyük
II. Safranbolu Evleri
III. Truva Harabeleri
IV. Efes - Meryem Ana Evi
V. Aspendos

Buna göre, turist kafilesi sırasıyla hangi kentlere gitmiştir?

- A) Çorum - Trabzon - Ankara - Antalya - Muğla
B) Konya - Karabük - Çanakkale - İzmir - Antalya
C) Ankara - Çanakkale - Antalya - Bursa - İstanbul
D) İstanbul - Kastamonu - Edirne - İzmir - Muğla
E) Çanakkale - Amasya - Edirne - İzmir - Mersin

44. Yüksek standarda sahip, çok şeritli ve ücretli karayollarına otoyol denir.

Aşağıdaki şehir çiftlerinden hangisi arasında otoyol vardır?

- A) Adana - Gaziantep
B) Ankara - Eskişehir
C) Samsun - Trabzon
D) Bursa - İzmir
E) Sivas - Erzurum

45. Aşağıdaki tabloda 2014 yılında Türkiye'nin en çok dış satım yaptığı beş ülke, dış satım gelirleri ve toplam dış satım miktarı içindeki payları verilmiştir.

Ülke adı	İhracat miktarı (milyon dolar)	Toplam ihracattaki payı (%)
Almanya	15.148	9,6
Irak	10.887	6,9
İngiltere	9.903	6,3
İtalya	7.141	4,5
Fransa	6.464	4,1

Tabloya bakılarak, aşağıdaki yargılardan hangisine ulaşılamaz?

- A) Türkiye'nin dış satımında AB ülkeleri başta gelir.
B) Türkiye toplam dış satımının dörtte birinden fazlasını beş ülkeye yapmaktadır.
C) Türkiye'nin en çok dış satım yaptığı Ortadoğu ülkesi Irak'tır.
D) Türkiye'nin dış ticaret hacminin en fazla olduğu ülke Almanya'dır.
E) Türkiye'nin Almanya'ya yaptığı dış satım miktarı Fransa'ya yaptığı dış satım miktarının iki katından fazladır.

46. Kanun koyucunun bilinçsizce, dikkatsizce bıraktığı boşluk türü aşağıdakilerden hangisidir?

- A) Kural dışı boşluk
B) Kural içi boşluk
C) Hukuk boşluğu
D) Takdir boşluğu
E) Bilinçli boşluk

47. Tüzel Kişiler hak ehliyetini ne zaman kazanmaktadır?

- A) Kuruldukları zaman
B) Yasal organlarını oluşturdukları zaman
C) Tescillendikleri zaman
D) Yetkili mercilerden izin aldıkları zaman
E) Kanuni yetkiyi aldıkları zaman

48. 2017 Anayasa değişikliğine göre, TBMM'nin seçimleri yenileme kararı alabilmesi için gerekli yeter sayısı aşağıdakilerden hangisinde doğru olarak verilmiştir?

- A) TBMM üye tam sayısının en az beşte üçü
- B) TBMM üye tam sayısının salt çoğunluğu
- C) TBMM üye tam sayısının en az üçte biri
- D) TBMM üye tam sayısının en az dörtte üçü
- E) TBMM üye tam sayısının en az üçte ikisi

49. Aşağıdakilerden hangisi milletvekilliğine seçilemez ise kendi görevine geri dönememektedir?

- A) Devlet memurları
- B) Öğretim Üyeleri
- C) Hekim
- D) Yargı mensupları
- E) Dekan

50. 2017 Anayasa değişikliğine göre, Milli Güvenlik Kurulu, Cumhurbaşkanı'nın katılmadığı toplantılarını aşağıdakilerden hangisinin başkanlığında gerçekleştirir?

- A) Adalet Bakanı
- B) Cumhurbaşkanı yardımcısı
- C) Milli Savunma Bakanı
- D) Genelkurmay Başkanı
- E) İçişleri Bakanı

51. 2017 Anayasa değişikliği ile aşağıdakilerden hangisi Hakimler ve Savcılar Kurulu'na üye seçenler arasında yer alır?

- A) Türkiye Büyük Millet Meclisi
- B) Anayasa Mahkemesi
- C) Barolar Birliği
- D) Uyuşmazlık Mahkemesi
- E) Yüksek Seçim Kurulu

52. 1982 Anayasası'na göre, Cumhurbaşkanlığı karar-namelerinin esas bakımından iptali için kaç gün içinde Anayasa mahkemesine dava açılabilir?

- A) 10
- B) 45
- C) 60
- D) 90
- E) 120

53. Valilerin atanma şekli aşağıdakilerden hangisinde doğru olarak verilmiştir?

- A) Cumhurbaşkanı kararı
- B) İçişleri Bakanının teklifi Cumhurbaşkanının onayı
- C) Yönetmelik ile
- D) Genelge ile
- E) Kanun ile

54. Kaymakamlar ile ilgili aşağıda verilen ifadelerden hangisi doğru değildir?

- A) İlçe idaresinin başıdır.
- B) İçişleri Bakanının teklifi Cumhurbaşkanının onayı ile atanır.
- C) İlçede yerinden yönetim kuruluşları üzerinde vesa-yet yetkisine sahiptir.
- D) İlçede Cumhurbaşkanının idari yürütme vasıtasıdır.
- E) Askeri makamlardan yardım talep etme yetkisine sahiptir.

55. 2017 yılı, Avrupa kültür başkenti aşağıdakilerden hangisidir?

- A) Plovdiv
- B) Matera
- C) Paphos
- D) San Sebastian
- E) Valetta

56. G-20 gelişmiş 19 ülke ve bir uluslararası kuruluşun meydana gelen birliktir.

G-20'de hangi uluslararası kuruluş yer almaktadır?

- A) NATO
- B) Avrupa Konseyi
- C) Birleşmiş Milletler
- D) Avrupa Birliği
- E) İNTERPOL

MURAT YAYINLARI

59. 2017 Mart tarihinde, 13. Ekonomik İşbirliği Teşkilatı liderler zirvesine aşağıdakilerden hangisi ev sahipliği yapmıştır?

- A) Türkiye
- B) Özbekistan
- C) Türkmenistan
- D) Azerbaycan
- E) Pakistan

57. 1949 yılında SSCB'nin yayılmacı politikasına karşı kurulan, ortak savunma ve barış ilkelerine sahip olan uluslararası kuruluş aşağıdakilerden hangisidir?

- A) Birleşmiş Milletler
- B) NATO
- C) Avrupa Konseyi
- D) Avrupa Birliği
- E) Şanghay İşbirliği Teşkilatı

60. 2016 yılı UNESCO gastronomi dalında yaratıcı şehirler ağına aşağıdaki kentlerimizden hangisi dahil edilmiştir?

- A) Şanlıurfa
- B) Gaziantep
- C) Tekirdağ
- D) Bolu
- E) Adana

58. TSK'nin Kabil'de 2002 yılından beri kullandığı ve Şubat 2015'te Afganlara devrettiği kışla aşağıdakilerden hangisidir?

- A) Doğan
- B) Hürkuş
- C) Topçu
- D) Birlik
- E) Bağımsız

MURAT YAYINLARI

• GENEL YETENEK - LİSANS • Deneme - 4 Çözümler

1. **A** Altı çizili sözle anlatılmak istenen "köklü geçmişe sahip olmak" sözüne karşılık gelir çünkü kökü sağlam olan şeyler bulunduğu zemine tutunur yani yere sağlam basar.
2. **B** Bir durum benzetmesi yapılmıştır. Ölen kişinin tüm işlevlerini yitirdikten sonra kefenlenip mezara konulması gibi, söz konusu edilen sözcük de kullanılmadığı için adeta ölmüş; sözlükte gömülmüştür.
3. **A** Kültürü yerleşik düzen oluşturur denilmektedir. "göçebe" yaşadıkları için kültürleri karışıktır. Bu yüzden "kemikleşmiş" kültürleri yoktur.
4. **E** Söz gruplarının sıralanışı: III - I - IV - V - II
5. **E** V. cümlede "yapılar ya da onların kalıntıları bize farklı kültürlerle ilgili bilgi vererek geçmişe ışık tutar" kısmında altı çizili sözlerle yapıların tarihçilere kolaylık sağladığından bahsedilmiştir.
6. **E** Çevirinin "yorum denemesi" olması çevirmenin çeviriyi kendi algısına göre aktardığı anlamına gelir.
7. **B** Cümledeki "bugünkü anlayışımıza göre film sayılamayacak kadar" ibaresinden B seçeneğine ulaşılır.
8. **C** III. cümlede, fıkra türünün yayımlanma yaygınlığından söz edilmiştir. Okur kitlesinin arttığından bahsedilmiştir.
9. **D** Cümlede üsluptan (dil ve anlatım) değil içerikten (konu) bahsedilmektedir. Yazarın neyi anlattığı belirtilmiştir.
10. **B** Şart kipinden sonra virgöl getirilmez. (Birden fazla şart sıralanırsa o zaman virgöl kullanılır.)
11. **D** Ardından: ünsüz yumuşaması
Fethetmeyi: ünlü düşmesi
Sanatçısı: ünsüz benzeşmesi
Etkiliyor: ünlü daralması
12. **C** Sözcüklerin doğru yazımları şöyledir: dolambaç, tıkırdayarak
13. **B** A seçeneğinde: uyku öncesi
C seçeneğinde: çocuk psikologları
D seçeneğinde: annenin ... sesi
E seçeneğinde: sesin yumuşaklığı

MURAT YAYINLARI

14. **A** İyelik eki: (onun) odası, güneyinde
Türemiş sözcük: yedinci, yapıldığı, bulunmuş
Birleşik sözcük: yüzyıl
Birleşik çekimli eylem: anlaşılmıştı (anlaşılmış idi: hikâye çekimi)
İşaret sıfatı: bu mezar
Sayı sıfatı: otuz yedinci kule, 4. yüzyıl
Cümlede edilgen çatılı eylem kullanılmıştır: anlaşılmıştı.
15. **D** "Bebeğin koklanası, öpülesi ve sevilesi minik elleri vardı." cümlesinde "Bebeğin koklanası, öpülesi ve sevilesi minik elleri" belirtili isim tamlaması olduğu için bölünmez ve hepsi öznedir.
16. **E** Kişileştirme: Konuklarını davet eder.
Betimleme: Göl ve çevresinin resmi çizilebiliyor.
Karşılaştırma: Türkiye'nin en güzel göllerinden biri...
Görsel öğeler: Uzaktan bakıldığında ... mavi.
17. **C** II. ve IV. cümlede klasik yapıttan bahsedilmektedir. III. cümledeyse kitabın basımıyla ilgili bir durumdan bahsedildiğinden III. cümle akışı bozmaktadır.
18. **C** I. Yaşadığı alanlar: Afrika, Avusturalya, Türkiye.
II. Fiziksel özellikleri: mavi ve desenli kanatlı.
19. **D** Parçadaki "... yayınevlerinin ayakta durmaları az satan kaynak kitaplara değil, çok satan kitaplara bağlı." cümlesi, vurgulanmak istenen düşüncüyü vermektedir.
20. **E** Niteleme sıfatları: küçük çalı, bir avuç ot
Koşul: çam olamazsan...
Öneri: dere kenarındaki en iyi küçük çalı sen olmalısın.
Karşılaştırma: en canlı saz sen olmalısın.
21. **C** Bizim kültürümüzde sabır, hoşgörü, saygı gibi değerler bulunmaktayken biz bunları değerlendirememişiz; Avrupalılar bunu akademik bir eğitim sistemi hâline getirmişler.
22. **A** Tanımlama ilk cümlede, benzetme son cümlede. Açıklama ise paragrafın genelinde yapılmıştır. Parçada karşılaştırma deneme ile makale arasındadır.
23. **B** Parçada, çocukların yetişkinler için hazırlanan tüm kitapları okumasına yönelik bir öneri yoktur.
24. **D** III. cümledeki "...bu başarılı tutumları..." ifadesinden hareketle bu cümlelerin son cümle olması gerektiği anlaşıyor. Çünkü diğer cümlelerde bu tutumlar söylenmiştir. Buna göre de III. ve V. cümle yer değiştirmelidir.
II. cümlede doğallıktan söz edilmektedir, bu cümleyi takip eden cümle V numaralı cümle olmalıdır çünkü bu cümlede de doğallıktan söz etmektedir.

MURAT YAYINLARI

25. E Diğer şıklarda beğenilerin farklı oluşundan bahsedilmiş. Daha sonra, beğenilerle düşünceler arasında ilgi kurulmuş ve aynı farklılığın onlar için de geçerli olduğu sezdirilmek istenmiş. Bu durumda bu düşünce tarzına zıt olan tek seçenek E seçeneğidir.

26. A Özgün olmak: kendi sesinizi bulun.
Tecrübe kazanmak: yaza yaza öğrenin.
Seçici olmak: Sizi amacınıza ulaştıracağına inandığınız türden çok sayıda kitap okuyun.
Donanımı zenginleştirmek: çok sayıda kitap okuyun.

27. C A, "Dicle Irmağı'nın kıyısında, dik kayaların çevrelediği bu kasabanın..."
B, "ahşap olması, yaşlıların kapı önlerinde gurbetkileri beklemesi"
D, "pencereler, bana hep yaşlıların yalnızlığını anımsatır."
E, "yöre insanı uzun yıllardan beri gurbete gitmeye alıştıktır."

28 - 30. sorular için

Verilenlere göre şu çıkarımları yapabiliriz:

- B takımı 2. hafta mağlup olduğundan, 3. hafta her takım farklı sonuç aldığından ve 5. hafta her takım ayın sonucu aldığından A takımının galip gelip B ve C takımlarının berabere kaldığı hafta ya 1. hafta ya 4. hafta olur. Buna göre olasılıklar iki tablo halinde şöyle olur.

1. Tablo

	1	2	3	4	5
A	G	B	G	B	G
B	B	M	M	M	G
C	B	B	B	M	G

C takımı üst üste 3 beraberlik aldığı ve A takımının mağlubiyeti olmadığı için C'nin mağlup olduğu hafta 4. haftadır. Çünkü 5. hafta her takım aynı sonucu alacak. Ayrıca A takımı 3. hafta galip gelmek zorundadır. Çünkü mağlubiyeti yoktur.

2. Tablo

Aynı mantıkla hareket ettiğimizde ve A takımının galip geldiği ve B ve C'nin berabere kaldığı haftanın 4. hafta olma olasılığı şöyle olur:

	1	2	3	4	5
A	B	B	G	G	G
B	M	M	M	B	G
C	M	B	B	B	G

28. C

29. E

30. A

31. B

$$\frac{1}{0,1} + \frac{1}{0,2} + \frac{1}{0,5} = \frac{1}{\frac{1}{10}} + \frac{1}{\frac{1}{5}} + \frac{1}{\frac{1}{2}} = 10 + 5 + 2 = 17$$

32. A

$$\frac{x}{1} < \frac{5}{3} < \frac{y}{1} < \frac{17}{9}$$

(9) (3) (9) (1)

$9x < 15 < 9y < 17 \rightarrow$ farklar sabit ve a kadar ise

$$9x + a = 15$$

$$15 + a = 9y$$

$$9y + a = 17$$

$$15 + a + a = 17$$

$$2a = 2$$

$$a = 1$$

$$9x = 15 - a$$

$$-/ \quad 9y = 15 + a$$

$$9x - 9y = -2a$$

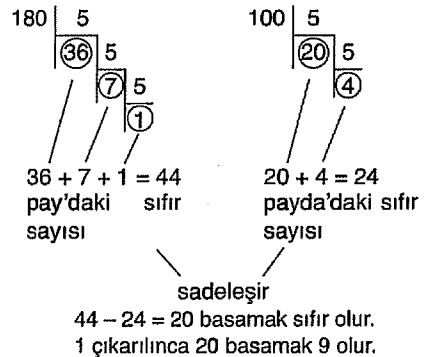
$$9(x - y) = -2a$$

$$x - y = \frac{-2 \cdot 1}{9} \Rightarrow x - y = \frac{-2}{9}$$

33. E

Kötü şans düşünerek en büyük sayıda toplar önce seçilir.
6 mor + 5 yeşil + 4 beyaz + 1 sarı = 16 top çekilir.

34. B



35. D

$$\begin{aligned} & \frac{6\sqrt{5}}{\sqrt{5+3} - (\sqrt{5}-3)} + \frac{20}{\sqrt{5+3} + (\sqrt{5}-3)} \\ &= \frac{6\sqrt{5}}{\sqrt{5+3} - \sqrt{5} + 3} + \frac{20}{\sqrt{5+3} + \sqrt{5} - 3} \\ &= \frac{6\sqrt{5}}{3} + \frac{20}{2\sqrt{5}} \\ &= \sqrt{5} + \frac{10}{\sqrt{5}} \\ &= \sqrt{5} + 2\sqrt{5} \\ &= 3\sqrt{5} \end{aligned}$$

36. E

$$\begin{aligned} & \frac{xy^3 + x^2y}{xy + y - x - 1} : \frac{y^2 + x}{y - 1} \\ &= \frac{xy(y^2 + x)}{x(y-1) + y-1} \cdot \frac{y-1}{y^2 + x} \\ &= \frac{xy}{(y-1)(x+1)} \cdot \frac{y-1}{1} = \frac{xy}{x+1} \end{aligned}$$

37. A

EBOB(12,a) = 6 ise a = 6k olmalı
k = 2 olamaz EBOB değeri değişir.
16 < a < 50 için ⇒
k = 3 için a = 6k = 18
k = 5 için a = 6k = 30
k = 7 için a = 6k = 42
3 farklı değeri vardır.

38. C

$$||x-3|-1| = a \rightarrow \text{iki durum incelenir}$$

$$\begin{aligned} & |x-3|-1 = a \quad |x-3|-1 = -a \\ & |x-3| = a+1 \quad |x-3| = 1-a \\ & \begin{aligned} & \swarrow \quad \searrow \\ & x-3 = a+1 \quad x-3 = -a-1 \\ & \boxed{x = a+4} \quad \boxed{x = 2-a} \end{aligned} \\ & \begin{aligned} & 1 < a \text{ olduğu için} \\ & 1-a < 0 \text{ dır.} \end{aligned} \\ & \text{Bu ifade 0'dan} \\ & \text{küçük olamaz.} \\ & \text{x değeri yoktur.} \end{aligned}$$

$$a+4+2-a=6$$

39. A

x sayısının 9 ile bölümünden kalan 8 ise A = 8 yazabiliriz.
10'un 9 ile bölümünden de 1 gelir.

$$A^3 + 10$$

$$\downarrow \quad \downarrow$$

$$8^3 + 1^3 = (8+1)(8^2 - 8 \cdot 1 + 1^2) = 9 \cdot 57$$

9 çarpanı olduğu için kalan 0'dır.

MURAT YAYINLARI

40. A

$32^{78} \equiv x \pmod{10}$ Birler basamağı sorulduğunda
Mod 10'a göre işlem yapılır.

$$\begin{aligned} & 2^1 \equiv 2 \\ & 2^2 \equiv 4 \\ & 2^3 \equiv 8 \\ & 2^4 \equiv 6 \\ & 2^5 \equiv 2 \quad \text{tekrar edince durduk} \\ & \begin{array}{r} 78 \\ 2 \overline{) 78} \\ \underline{78} \\ 0 \end{array} \end{aligned}$$

Cevap 4'tür.

41. D

$$x \Delta y = \{x, y\}'nin \text{ en büyük asal böleni}$$

$$16 \Delta 11 = 16.11 \rightarrow \text{en büyük asal böleni } (11)$$

$$13 \Delta 57 = 13.57 \rightarrow \text{en büyük asal böleni } (19)$$

$$13 \cdot 3 \cdot 19$$

$$11 \Delta 19 = 11 \cdot 19 \text{ çarpımının en büyük asal böleni } 19$$

MURAT YAYINLARI

42. C

$\frac{A}{B} \cdot \frac{C}{D} \rightarrow$ rakamları farklı diyor.

$$\frac{4}{5} \cdot \frac{3}{1} = 12$$

5 ile bölünmesi için birler basamağına
sadece 5 yazılır.

43. D
 $\{1,3,4\}$ için $3 \cdot 2 \cdot 1 = 6$
 $\{1,3,5\}$ için $3 \cdot 2 \cdot 1 = 6$
 $\{1,4,5\}$ için $3 \cdot 2 \cdot 1 = 6$
 $6 + 6 + 6 = 18$

44. E
 $1 - \frac{4}{5} = \frac{1}{5}$ kalan iş
 Zeki işin $\frac{1}{5}$ 'ini 1 günde yaparsa tamamını
 $\frac{1}{5}$ iş 1 gün
 $\frac{5}{5}$ iş ? gün
 \downarrow
 5 günde yapar
 Zekinin 5 günde yaptığı işi
 Metin $3 \cdot 5 = 15$ günde yapar.

45. B
 Mumların boyları EKOK(12,15)=60 yandıktan sonra kalan boyları oranı $\frac{1}{4}$ ise
 $\frac{60-5x}{60-4x} = \frac{1}{4}$ $x = \frac{45}{4}$

46. D
 Tamamını 60 dk koşarsa yarısı 30 dk.
 15 sn 40 adım
 60 sn ?
 \downarrow
 160 adım \rightarrow 60 sn = 1 dk
 1 dk 160 adım
 30 dk ?
 \downarrow
 4800 adım
 tamamını 72 dk yürüyorsa yarısı 36 dk.
 15 sn 30 adım
 60 sn ?
 \downarrow
 120 adım \rightarrow 60 sn = 1 dk
 1 dk 120 adım
 36 dk ?
 \downarrow
 4320 adım
 $4800 + 4320 = 9120$ adım.

47. C
 A \rightarrow Satış - Alış = Kâr
 $10 - 6 = 4$
 $10 \text{ ₺} \quad 4 \text{ kâr}$
 $40 \text{ ₺} \quad ?$
 \downarrow
 $\frac{4 \cdot 40}{10} = 16 \text{ kâr}$
 B \rightarrow Alış - Satış = Zarar
 $10 - 8 = 2$
 $8 \text{ ₺} \quad 2 \text{ zarar}$
 $40 \text{ ₺} \quad ?$
 \downarrow
 $\frac{40 \cdot 2}{8} = 10 \text{ zarar}$
 $16 - 10 = 6 \text{ kâr}$

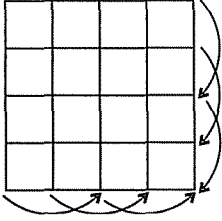
48. C
 Kırmızı olma olasılığı $\rightarrow \frac{1}{3}$
 kırmızı olmama olasılığı $\rightarrow \frac{2}{3}$
 $\left. \begin{array}{l} \frac{1}{3} \cdot \frac{1}{3} \cdot \frac{1}{3} = \frac{1}{27} \\ \frac{1}{3} \cdot \frac{1}{3} \cdot \frac{2}{3} = \frac{2}{27} \\ \frac{1}{3} \cdot \frac{2}{3} \cdot \frac{1}{3} = \frac{2}{27} \\ \frac{2}{3} \cdot \frac{1}{3} \cdot \frac{1}{3} = \frac{2}{27} \end{array} \right\} \text{Toplam} = \frac{7}{27}$

49. B
 $x \rightarrow$ kardeş sayısı
 $y \rightarrow$ ceviz sayısı
 eşit paylaşırsa
 $\frac{y}{x+1} = 10 \Rightarrow y = 10x + 10$
 kardeşlere 6 ceviz verirse
 $6x + 18 = y$
 $10x + 10 = 6x + 18$
 $4x = 8$
 $x = 2$
 $y = 10(x + 1)$
 $y = 10 \cdot 3$
 $y = 30$

MURAT YAYINLARI

MURAT YAYINLARI

50. A



3 . 3 = 9 tane 2 kare olduğundan toplam 18 kesişimlerinde
de 1 kare olduğundan
18 - 1 = 17 kare çizilir.

51. B

65 sorudan
45 tane A, 19 tane B, 1 tane C testinden
45 . 2 + 19 . 1,5 + 1.1 = 119,5

52. C

$$\frac{A}{k} \quad \frac{B}{6k}$$

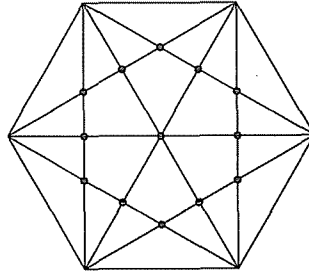
38 - 12 - 7k = 26 - 7k soruyu C testinden yanıtlamış.
2.k + 6k . 1,5 + (26 - 7k) . 1 + 12 . 0,5 = 44
k = 3

C testinde doğru yanıtlanan soru sayısı
26 - 7k = 26 - 7 . 3
= 5 bulunur.

53. E

A testinde doğru yanıt sayısı a olsun.
14 . 1,5 + 10 . 0,5 = 2a
21 + 5 = 2a
a = 13

54. B



beyaz nokta sayısı 13

55. C

$$1 \cdot d = 2 \cdot c = 3 \cdot b = a \cdot 13$$

2 ve 3'e bölünebiliyorsa 6'ya bölünebilir.

$$\begin{array}{ccccccc} 1, & 2, & 3, & a, & 13, & b, & c, & d \\ & \downarrow & & \downarrow & & \downarrow & & \downarrow \\ & 6 & & 26 & 39 & 78 & & \end{array}$$

$$a + b + c + d =$$

$$6 + 26 + 39 + 78 = 149$$

56. E

10 kg'lık I. karışımda		
sarı	kırmızı	beyaz
%10	%30	%60
k +	3k +	6k = 10 kg
		10k = 10 kg
		k = 1 kg

$$\begin{array}{r} \text{beyaz} = 6k = 6.1 = 6 \text{ kg} \\ 10 + 2 = 12 \text{ kg yeni karışım} \\ 12 \text{ kg} \quad \times \quad 6 \text{ kg beyaz} \\ 100 \quad \quad \quad ? \\ \hline \end{array}$$

$$\frac{100 \cdot 6}{12} = 50$$

57. D

I. Karışım

sarı	kırmızı	beyaz
%10	%30	%60
k +	3k +	6k = 20
		k = 2 kg sarı

II. Karışım

sarı	kırmızı	beyaz
%40	%50	%10
4x	5x	x

yeni karışım $10x + 20$

yeni sarı $2 + 4x$

$$\frac{2 + 4x}{20 + 10x} = \frac{20}{100}$$

$$x = 1$$

$$10x = 10 \cdot 1 = 10 \text{ kg eklenmiş}$$

MURAT YAYINLARI

59. A

Dikdörtgen alanı = $40 \cdot a = 3600$

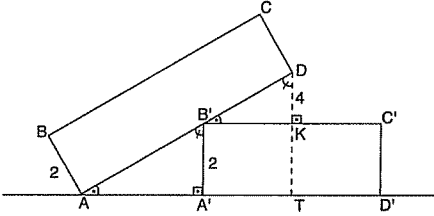
$$a = 90 \text{ cm}$$

90 cm'lik kenar kıvrılınca silindirin taban dairesinin çevresine eşittir.

$$2\pi r = 90$$

$$r = \frac{45}{\pi} \text{ cm'dir.}$$

58. D



$$|AD|^2 = |AT|^2 + |DT|^2 \quad \widehat{A'AB} \sim \widehat{KB'D}$$

$$12^2 = (3x)^2 + 6^2$$

$$9x^2 = 108$$

$$x^2 = 12$$

$$x = 2\sqrt{3}$$

$$\frac{|AA'|}{|KB'|} = \frac{2}{4} = \frac{1}{2}$$

$$\frac{|AA'|}{|AT'|} = \frac{|A'B'|}{|TD|} = \frac{2}{6} = \frac{1}{3}$$

$$\frac{|AA'|}{|AT'|} = \frac{1}{3}$$

60. B

$6x - 8y = 8$ doğrusunun eğimini bulalım.

$$m = \frac{-6}{-8} = \frac{3}{4} \text{ bulunur.}$$

eğimi ve bir noktası bilinen doğrunun denklemi

$$y - y_1 = m(x - x_1)$$

$$y - (-1) = \frac{3}{4}(x - 3) \Rightarrow y + 1 = \frac{3}{4}(x - 3)$$

$$4y + 4 = 3x - 9$$

$$4y - 3x = -13 \text{ bulunur.}$$

MURAT YAYINLARI

• GENEL KÜLTÜR - LİSANS • Deneme - 4 Çözümler

1. B 744-840 yılları arasında varlığını sürdüren Uygur Devleti 751 Talas Savaşı'nda Abbasi ve onları destekleyen Türk boylarına Çin'in yenilmesi ile Orta Asya'da sınırlarını genişleten Türk Devleti olmuştur.
2. E Karahanlıların İslamiyet'i benimsemelerine rağmen Orta Asya Türk devlet geleneklerini ve kültür yapısını koruyarak sürdürdüklerine, ikili teşkilat, veraset sistemi, şölen, saltanat çadırını yağmalatma gibi Orta Asya'da kullanılan ve İslamiyet'in benimsemesi ile devam ettirilen uygulamalar kanıt olarak gösterilir. Ancak hükümdarların Abbasi halifesinden menşur (onay belgesi) alması Türklerin gelenekleri arasında İslamiyet sonrası yer almaya başlamıştır.
3. A Vakıf topraklarının gelirleri sosyal hizmet ve hayır amaçlı faaliyet yürüten kurumlara ayrıldığı için iktisadi refahı topluma yaymayı amaçladığı söylenebilir.
4. D I. Selim, Yükselme Dönemi padişahıdır ve 1515'te Tur-nadağ Savaşı ile Dulkadiroğullarına son vererek Ana-dolu Türk siyasi birliğini kesin olarak sağlamıştır.
5. E Osmanlı devlet teşkilatlanması, Orta Asya devlet yö-netim gelenekleri ile Asya Hunlarından, fethedilen bölgelerin devlet yönetim gelenekleri ve İslam devlet gelenekleri ile Memlük ve Türkiye Selçuklu devletlerinin devlet yönetim gelenekleri doğrultusunda şekillenmiştir.
6. E 1876 yılında kabul edilen Kanunuesasi Türk ve Os-manlı tarihinin ilk yazılı anayasasıdır. Anayasa ile ilk kez halk yönetime katılmış, ilk kez rejim değişmiştir, do-layısıyla padişaha bağlı güçlü bir merkezi otorite tesis edilmemiş, padişahın yetkileri anayasa ile sınırlandırıl-mıştır.
7. D Dirlik sistemi içerisinde yer alan ve geliri en yüksek olan Has arazilerin gelirleri hanedan üyeleri, divan üyeleri ve yüksek dereceli devlet memurları olan beylerbeyi ve sancakbeylerine bırakılmıştır.
8. B Mekke ve Medine kadılıklarına verilen isim Hameyn Mevleviyet Kadılığı'dır.
Nakib'ül Eşraf: Hz. Muhammed'in soyundan gelen kiş-i-ler tanınan hakları korumakla görevli kişilerdir.
Mahreç Mevleviyet Kadılığı: Halep, İzmir ve Kudüs gibi kadılıklara verilen isimdir.
Taht Kadılığı: Başkent kadılarına verilen isimdir.
Kaza Kadılığı: Mevleviyet kadılıklarından sonra gelen kadılık makamlarına verilen isimdir.
9. C Cihannüma ve Keşfuz-zunun gibi eserleri bulunan, Hacı Halife, Hacı Kalfa olarak isimlendirilen, hazırladığı raporu IV. Murat'a ve I. İbrahim'e sunan Osmanlı bilgini Katip Çelebi'dir.
10. A Osmanlı Devleti, Mısır sorununda destek almak ama-cıyla 1833'te Rusya ile Hünkâr İskeleyi Antlaşması'nı imzalamıştır.
11. A Vakayî Hayriye ile Yeniçeri Ocağı kaldırılmıştır. Bu olayın gerçekleşmesi ile Seyfiye (Askeri) sınıfının yönetim-deki etkisi azalacaktır çünkü seyfiye sınıfında yer alan devlet adamları da Yeniçeri Ocağı'nın desteğini alarak merkezi otoriteye karşı hareket etmektedirler.

MURAT YAYINLARI

MURAT YAYINLARI

12. C Osmanlı Devleti Balkan Savaşları sonrasında sınırla-rı kalmamasına rağmen Sırbistan ile 1914'te İstanbul Antlaşması'nı imzalamıştır. Antlaşmada sadece Os-manlı azınlıklarının hakları görülmüştür.
13. A Müdafaa-i Hukuk Kadınlar Şubesi, Millî Mücadele Dönemi'nde 10 Aralık 1919 tarihinde Mevlevî Şeyhi Amil Çelebi'nin eşi Zekiye Hanım tarafından Kastamonu'da kurulmuştur.
14. C Amasya Tamimi ve Erzurum Kongresi'nde ulus ege-menliği ile ilgili madde yer alırken Havza Genelgesi ve Balıkesir Kongresi'nde böyle bir karar alınmadığı gibi Balıkesir Kongresi'nde padişaha bağlılık bildirilmiştir.
15. D Milli Mücadele Dönemi'nde, Ali Fuat Paşa Sivas Kongresi'nde Temsil Heyeti tarafından Batı Cephesi Umumu Kuvayimiliye Komutanlığına atanmış ancak Gediz Taaruzu sonrası Kuvayimiliye'nin lağvedilme-si üzerine Moskova Büyükelçiliğine atanmıştır. Türkiye Büyük Millet Meclisi başkanlığı görevini ise Milli Müca-dele sürecinde değil 1948 yılında üstlenmiştir.
16. B II. İnönü Savaşı sonrası Fransa ve İtalya TBMM ile an-laşma yolları aramaya başlamış fakat Kütahya Eskişe-hir Savaşı'nın kaybedilmesi sonucu bu çalışmalarını bir süre askıya almışlardır. Sakarya Savaşı'nın kazanılma-sı ile Fransa ve İtalya TBMM ile anlaşarak Anadolu'dan tamamen çekilmişlerdir.
17. D İsmet İnönü, "Çok ıstırap çektik, çok kan akıttık bütün medeni milletler gibi hürriyet ve bağımsızlık istiyoruz..." sözlerini Lozan Barış Görüşmeleri esnasında söylemiş-tir.
18. A Şeyh Said İsyanı, Terakkiperver Cumhuriyet Fırkası'nın kapatılmasına neden olduğu için çok partili hayata ge-çişte gerekli demokratik ortamın henüz oluşmadığını gösteren ilk olay olmuştur.
19. D Atatürk'ün verilen sözünde; kadın ile erkeğin toplum-sal ve siyasal hayata aktif katılımı ve eşit haklara sa-hip kılınması belirtilmiştir. Medeni Kanun'un kabulü ve kadınlara siyasi hakların verilmesi bu durumun hayata geçmesini sağlamıştır.
20. E Atatürk Dönemi'nde dil ve tarih alanında yapılan çalış-malar arasında; 1932'de I. Türk Dil Kurultayı'nın toplanması, Birinci Dil Kurultayı'nda belirlenen ilkeler ve yapılacak araştırmaların sonuçlarını değerlendirmek ve yeni hedefler koymak amacıyla 1934 yılında İkinci Dil Kurultayı'nın düzenlenmesi, 1932'de Ankara'da Türk ve yabancı tarihçilerin katıldığı Birinci Türk Tarih Kurultayı'nın toplanması, 1936'da Dil ve Tarih Coğraf-ya Fakültesi'nin kurulması, 1937'de dil ve tarih ile il-gili faaliyetlerde bulunmak üzere Belleten Dergisi'nin çıkarılması yer alır. I. Coğrafya Kongresi ise 1941'de Ankara'da yapılan ve Türkiye'nin 7 ana coğrafi bölgeye ve 21 coğrafi bölüme ayrıldığı kongredir.
21. D Soyadı Kanunu kapsamında her Türk öz adından baş-ka soyadını da taşımaya mecburdur. Söyleyişte, ya-zılıştı ve imzada öz ad önde, soy ad sonda kullanılır. Rütbe ve memuriyet, aşiret ve yabancı ırk millet isim-leriyle umumi edepelere uygun olmayan veya iğrenç ve gülünç olan soyadları kullanılamaz.

22. B Atatürk Dönemi'nde Cumhuriyet rejiminin yerleşmesi ve güçlendirilmesinin kanıtı olabilecek durumlar arasında Cumhuriyetin ilanı sonrası gerçekleştirilen Halifeliğin kaldırılması yer alır. Saltanatın kaldırılması Cumhuriyetin ilanı öncesinde, tek dereceli seçim sistemine geçilmesi ise, 1946 Atatürk sonrasında gerçekleştirildiği için alınamaz.
23. A Atatürk Dönemi'nde milli politikaya uygun olarak çözümlenen sorunlar arasında boğazlar konusu yer alır. Montrö Boğazlar Sözleşmesi ile Uluslararası boğazlar komisyonu kaldırılmış, Türkiye Boğazların her iki yakasında silah bulundurma hakkı elde ederek boğazlar üzerinde tam hakimiyet sağlamıştır. Musul, 1926 Ankara Antlaşması ile Misakımillî'den verilen üçüncü taviz olurken Hatay'ın anavatana katılması ise Atatürk sonrasında 1939'da İsmet Bey Dönemi'nde gerçekleşmiştir.
24. B Türkiye 1932'de Milletler Cemiyeti'ne üye olmuştur. Sovyet Rusya ise 1934 yılında üye olmuş ve Türkiye ile Sovyet Rusya arasındaki ilişkiler daha olumlu seyretmiştir.
25. D Demokrat Parti Dönemi'nde kurulan bankalar: Sınai ve Kalkınma Bankası (1950)
Denizcilik Bankası (1952)
Şekerbank (1953)
Demirbank (1953)
Vakıfbank (1954)
Pamukbank (1955)
Öğretmenler Bankası (1958)
Çaybank (1958)
Emlak ve Eytam Bankası ise 1926'da Atatürk Dönemi'nde kurulmuştur.
26. B I. Kahire, Yalta, Potsdam ve Tahran konferansları İkinci Dünya Savaşı devam ederken toplanmıştır. Ancak Bandung Konferansı 18-24 Nisan 1955 yılında Soğuk Savaş Dönemi'nde toplanmıştır. Bandung Konferansı Bağılantısızlar Hareketi'nin oluşmasında etkili olmuştur.
27. E 1991 yılında Alma Ata Zirvesi ile kurulan ve Sovyetler Birliği'nin resmen dağıldığını belgeleyen teşkilat Bağımsız Devletler Topluluğu'dur.
28. C Parçaya göre, Türkiye'de batıdan doğuya gidildikçe sıcaklığın azaldığına ve tarım ürünlerinin olgunlaşma süresinin uzadığına, Akdeniz kıyılarının Karadeniz kıyılarından daha sıcak olduğuna ve Akdeniz'in tuzluluk oranının Karadeniz'den fazla olduğuna ulaşılabilir. Ancak Türkiye'de kuzey güney yönlü ulaşımın zor olduğu bilgisine ulaşabilmek için dağ sıralarının doğu batı yönlü uzandığının bilinmesi gerekir.
29. D Tabloya bakıldığında Türkiye arazisinin yaklaşık üçte ikisinde eğimin % 15'ten fazla olduğu görülmektedir. Bu nedenle Türkiye'nin dağlık ve engebeli bir ülke olduğu sonucuna ulaşılabilir.
30. B Doğu Anadolu Bölgesi'nin yüksek ve engebeli bir bölge olması, iklimin elverişsizliğine ve tarım alanlarının da dar olmasına yol açmıştır. Bu nedenle hayvancılık tarımdan daha önce gelir. Anca bölgede çiftçi sayısının yetersizliği gibi bir sorun yaşanmamaktadır.
31. E Seçeneklerde verilen Adana, Konya, Bursa ve Samsun şehirleri gelişmiş sanayileri ve ulaşım imkanları ile geniş bir alanı etkilerken, Sivas özellikle sanayi ve ticaretinin gelişmemesi nedeniyle etki alanı daha dar bir şehirdir.
32. B Grafiğe bakıldığında yazların sıcak ve kurak geçtiği görülmekte, kışlar ılık geçtiği için zeytin ve turuncgillerin de yetiştirilebileceği söylenebilir. Ancak föhn rüzgarının oluşması yer şekillerine bağlı olduğundan, deniz turizminin gelişmesi de kıyının temizliğine ve kıyıda sanayi tesislerinin olmamasına da bağlı olduğundan söylenebilir.
33. A Türkiye orta kuşakta bulunduğundan kasırga görülme ihtimali, büyük denizlere ve okyanuslara kıyısı olmadığından büyük bir tsunami yaşanma olasılığı düşüktür. Ancak Türkiye'nin yer şekilleri ve iklim şartlarından dolayı çığ felaketi yaşanabilir.
34. B Parçada Ege Bölgesi akarsularının az su taşıdıklarından, rejimlerinin düzensiz olduğundan, denize döküldükleri için açık havzaya sahip olduklarından ve delta ovaları oluşturdıkları için bol miktarda alüvyon taşıdıklarından bahsedilmiştir. Ancak akarsuların kaynaklarını nereden aldıkları hakkında bir bilgi bulunmamaktadır.
35. E Akdeniz enleminden dolayı en tuzlu denizdir, Karadeniz'in tabanında bulunan zehirli hidrojen sülfür gazı nedeniyle 200 m'den daha derinlerde hiçbir canlı yaşamaz, Marmara Denizi ve boğazlar dördüncü jeolojik zamanda oluşmuştur ve Karadeniz balık bakımından en zengin denizdir. Ancak kıyı önünde en fazla ada bulunan deniz Akdeniz değil Ege Denizi'dir.
36. D Türkiye'de göç veren yerlerde nüfus azalır. Bu nedenle eğitim ve sağlık kurumları kapanabilir, tarım alanları boş kalabilir ve buralara olan kamu yatırımları da azalır. Ancak göç veren yerlerde çevre sorunları yaşanmaz.
37. E Parçada verilen bilgiye göre regosollerin volkanik arazilerde bulunduğu anlaşılmaktadır. Bu nedenle Van Gölü çevresinde bulunma olasılığı daha fazladır.
38. D Nüfus piramidine bakıldığında piramidin tabanının daraldığına, yaşlı nüfus içinde kadın sayısının daha fazla olduğuna, en fazla nüfusun 10-14 ile 30-34 yaş arasında olduğuna ve yetişkin nüfusta kadın erkek sayısının yaklaşık aynı olduğuna ulaşılabilir. Ancak aritmetik nüfus yoğunluğunun değişimi ile ilgili bir bilgiye ulaşılamaz.
39. E Tablodaki bilgilere bakıldığında, Marmara, Ege ve Karadeniz Bölgesi gibi kıyı bölgelerimizde nadas alanlarının iç bölge illerine göre az olduğuna, verilen iller içinde en geniş tarım alanına Konya'nın sahip olduğuna, Rize'de nadasa bırakılan alanın olmadığına ve Aydın'da nadas alanları az olduğu için sulama imkanlarının gelişmiş olduğuna ulaşılabilir. Ancak tabloya göre Erzurum'un tarım alanlarının Bursa'dan daha geniş olduğu görülmektedir.
40. A Tabloya bakıldığında Türkiye'nin ürettiği elektriğin yaklaşık yarısını (% 48,6) doğal gazdan elde ettiğini dolayısıyla elektrik üretiminde en fazla payın doğal gazla olduğu anlaşılmaktadır.

41. C Türkiye fosfatı ithal etmektedir, çıkarttığı linyitin tamamını ise ülke içinde tüketmektedir. Ancak bor ve kromun bir kısmını ihraç etmektedir.
42. C Elazığ ferrokrom, Seydişehir alüminyum ve Kırka bor fabrikaları hammaddeye yakın yerde kurulmuşlardır. Karabük demir-çelik fabrikasının kurulma nedeni ise enerji kaynağı olan taş kömürüne yakınlıktır. Ancak Samsun bakır işletmelerinin yer seçiminde ulaşım imkanı etkili olmuştur.
43. B
- Çatalhöyük → Konya'da
 - Safranbolu Evleri → Karabük'te
 - Truva Harabeleri → Çanakkale'de
 - Efes Antik Kenti → İzmir'de
 - Aspendos Antik Tiyatrosu → Antalya'da bulunmaktadır.
44. A Verilen şehirlerden şu anda sadece Adana Gaziantep arasında otoyol bulunmaktadır.
45. D Tabloda dış alım bilgileri olmadığından Almanya ile olan dış ticaret hacmi hakkında herhangi bir yargıya ulaşılamaz.
46. A Kanun koyucunun bilinçsizce, dikkatsizce bıraktığı boşluğa kural dışı boşluk denir. Kural dışı boşluk, açık -gerçek kanun boşluğu ya da kapalı- gerçek olmayan kanun boşluğu sonucunu doğurur. Kanun koyucunun bilerek bıraktığı boşluğa kural içi boşluk denir. Bir olayı çözebilecek yazılı veya yazısız hukuk kuralının bulunmamasından doğan boşluğa hukuk boşluğu denir.
47. A Tüzel kişiler kuruldukları zaman hak ehliyetini kazanırlar. Kanunen zorunlu organlarını oluşturdukları zaman fiil ehliyetlerini kazanmaktadırlar.
48. A 1982 Anayasası'nın 2017 yılı değişikliğine göre, TBMM seçimleri yenileme kararını TBMM üye tam sayısının en az beşte üçü ile alır. Bu kararla birlikte TBMM ve Cumhurbaşkanlığı seçimleri birlikte yenilenir. Eğer bu karar Cumhurbaşkanlığı'nın ikinci 5 yıllık dönemine denk gelirse aynı kişi bir defa daha Cumhurbaşkanlığına aday olabilir, çünkü kararın alındığı zaman döneminden sayılmaz.
49. D Devlet memurları altı ay içinde görevlerine geri dönebilmektedir. Hekim, Dekan, Öğretim üyeleri de milletvekili seçilemezler ise görevlerine geri dönebilmektedirler. Fakat Yargı ve silahlı kuvvet mensupları milletvekili seçilemezler ise görevlerine geri dönememektedirler.
50. B 2017 yılı Anayasa değişikliğine göre, Milli Güvenlik Kurulu, Cumhurbaşkanlığı'nın katılmadığı toplantılarını Cumhurbaşkanlığı yardımcıları başkanlığında gerçekleştirebilir. Cumhurbaşkanlığı yardımcıları 2017 yılı değişikliği ile MGK üyeleri arasına dahil edilmiştir.
51. A 2017 Anayasa değişikliği ile HSK'ye TBMM yedi üye seçer. Bu üyelerin üçünü Yargıtay'dan, birini Danıştay'dan, üçünü ise üniversitelerin hukuk dallarında görev yapan öğretim üyeleri ve avukatlar arasından seçer.
52. C 1982 Anayasası'na göre, Cumhurbaşkanlığı kararnamelerinin esas bakımından iptali için 60 gün içinde dava açılabilir. Davayı, Cumhurbaşkanı, TBMM üye tam sayısının en az beşte biri, TBMM'de en çok üyeye sahip iki siyasi parti grubu açabilir.
53. A 2017 Anayasa değişikliği ile ilgili çıkarılan uyum yasalarına göre, valiler Cumhurbaşkanı kararı ile atanır. Vali, ilde Cumhurbaşkanının temsilcisi ve idari yürütme vasıtasıdır.
54. E Kaymakamın askeri makamlardan yardım talep etme yetkisi yoktur. Bu yetki il idaresinin başı olan valiye aittir. Kaymakam, ilçe idaresinin başıdır, İçişleri Bakanının teklifi Cumhurbaşkanının onayı ile atanır, ilçede yerinden yönetim kuruluşları üzerinde vesayet yetkisine sahiptir, ilçede Cumhurbaşkanının idari yürütme vasıtasıdır.
55. C 2019 yılı Avrupa Kültür Başkentleri Plovdiv (Bulgaristan) ve Matera (İtalya), 2018 yılı Avrupa Kültür Başkentleri Leeuwarden (Hollanda) ve Valetta (Malta), 2017 yılı Avrupa Kültür Başkentleri Aarhus (Danimarka) ve Paphos (Kıbrıs Rum), 2016 yılı Avrupa Kültür Başkentleri Wrocław (Polonya) ve San Sebastian (İspanya)'dır.
56. D G-20 oluşumunda yer alan uluslararası teşkilat Avrupa Birliği'dir.
57. B NATO Brüksel merkezli olarak faaliyet gösteren bir kuruluştur. Amacı kalıcı barışı sağlamaktır. SSCB'nin yayımlı politikalarına karşı 1949'da kurulmuştur. Türkiye 1952 yılında NATO'ya üye olmuştur.
58. A TSK'nin Kabil'de 2002 yılından beri kullandığı ve Şubat 2015'te Afganlara devrettiği kışlının adı DOĞAN KIŞLASI'DIR.
59. E 2017 Mart ayında, 13. Ekonomik İşbirliği Teşkilatı (EİT) liderler zirvesi Pakistan'da toplanmıştır. Teşkilat, 1985 yılında Türkiye, Pakistan, İran arasında kültürel, ticari ve ekonomik iş birliğini geliştirmek amacıyla kurulmuştur. Üyeleri: Türkiye, Pakistan, İran, Azerbaycan, Afganistan, Kazakistan, Kırgızistan, Türkmenistan, Tacikistan ve Özbekistan'dır. Merkezi Tahran'dır.
60. B Gaziantep Birleşmiş Milletlerin UNESCO (Eğitim, Bilim ve Kültür) organı tarafından 2016 yılı gastronomi dalında yaratıcı şehirler ağına dahil edilmiştir.